

EXAME NACIONAL DO ENSINO MÉDIO

A COR DO SEU CADERNO DE QUESTÕES É AZUL.
MARQUE-A EM SEU CARTÃO-RESPOSTA



2º DIA
CADERNO
7 AZUL

PROVA DE REDAÇÃO E DE LINGUAGENS, CÓDIGOS E SUAS TECNOLOGIAS PROVA DE MATEMÁTICA E SUAS TECNOLOGIAS

LEIA ATENTAMENTE AS INSTRUÇÕES SEGUINTE

- Este CADERNO DE QUESTÕES contém a Proposta de Redação e 90 questões numeradas de 91 a 180, dispostas da seguinte maneira:
 - as questões de número 91 a 135 são relativas à área de Linguagens, Códigos e suas Tecnologias;
 - as questões de número 136 a 180 são relativas à área de Matemática e suas Tecnologias.**ATENÇÃO:** as questões de 91 a 95 são relativas à língua estrangeira. Você deverá responder apenas às questões relativas à língua estrangeira (inglês ou espanhol) escolhida no ato de sua inscrição.
- Confira se o seu CADERNO DE QUESTÕES contém a quantidade de questões e se essas questões estão na ordem mencionada na instrução anterior. Caso o caderno esteja incompleto, tenha qualquer defeito ou apresente divergência, comunique ao aplicador da sala para que ele tome as providências cabíveis.
- Verifique, no CARTÃO-RESPOSTA e na FOLHA DE REDAÇÃO, que se encontra no verso do CARTÃO-RESPOSTA, se os seus dados estão registrados corretamente. Caso haja alguma divergência, comunique-a imediatamente ao aplicador da sala.
- ATENÇÃO:** após a conferência, escreva e assine seu nome nos espaços próprios do CARTÃO-RESPOSTA e da FOLHA DE REDAÇÃO com caneta esferográfica de tinta preta.
- ATENÇÃO:** transcreva no espaço apropriado do seu CARTÃO-RESPOSTA, com sua caligrafia usual, considerando as letras maiúsculas e minúsculas, a seguinte frase:

A leitura é uma arma para a cidadania.
- Marque no CARTÃO-RESPOSTA, no espaço apropriado, a opção correspondente à cor desta capa.
- Não dobre, não amasse nem rasure o CARTÃO-RESPOSTA, pois ele não poderá ser substituído.
- Para cada uma das questões objetivas, são apresentadas 5 opções identificadas com as letras **A**, **B**, **C**, **D** e **E**. Apenas uma responde corretamente à questão.
- No CARTÃO-RESPOSTA, preencha todo o espaço compreendido no círculo correspondente à opção escolhida para a resposta. A marcação em mais de uma opção anula a questão, mesmo que uma das respostas esteja correta.
- O tempo disponível para estas provas é de **cinco horas e trinta minutos**.
- Reserve os 30 minutos finais para marcar seu CARTÃO-RESPOSTA. Os rascunhos e as marcações assinaladas no CADERNO DE QUESTÕES não serão considerados na avaliação.
- Somente serão corrigidas as redações transcritas na FOLHA DE REDAÇÃO.
- Quando terminar as provas, acene para chamar o aplicador e entregue este CADERNO DE QUESTÕES e o CARTÃO-RESPOSTA/FOLHA DE REDAÇÃO.
- Você poderá deixar o local de prova somente após decorridas duas horas do início da aplicação e poderá levar seu CADERNO DE QUESTÕES ao deixar em definitivo a sala de provas nos 30 minutos que antecedem o término da prova.
- Você será excluído do exame no caso de:
 - prestar, em qualquer documento, declaração falsa ou inexata;
 - perturbar, de qualquer modo, a ordem no local de aplicação das provas, incorrendo em comportamento indevido durante a realização do Exame;
 - se comunicar, durante as provas, com outro participante verbalmente, por escrito ou por qualquer outra forma;
 - utilizar qualquer tipo de equipamento eletrônico e de comunicação durante a realização do Exame;
 - utilizar ou tentar utilizar meio fraudulento, em benefício próprio ou de terceiros, em qualquer etapa do Exame;
 - utilizar livros, notas ou impressos durante a realização do Exame;
 - se ausentar da sala de provas levando consigo o CADERNO DE QUESTÕES antes do prazo estabelecido e/ou o CARTÃO-RESPOSTA a qualquer tempo;
 - não cumprir com o disposto no edital do Exame.



PROPOSTA DE REDAÇÃO

A partir da leitura dos textos motivadores seguintes e com base nos conhecimentos construídos ao longo de sua formação, redija texto dissertativo-argumentativo em norma padrão da língua portuguesa sobre o tema **O MOVIMENTO IMIGRATÓRIO PARA O BRASIL NO SÉCULO XXI**, apresentando proposta de intervenção, que respeite os direitos humanos. Selecione, organize e relacione, de forma coerente e coesa, argumentos e fatos para defesa de seu ponto de vista.

Ao desembarcar no Brasil, os imigrantes trouxeram muito mais do que o anseio de refazer suas vidas trabalhando nas lavouras de café e no início da indústria paulista. Nos séculos XIX e XX, os representantes de mais de 70 nacionalidades e etnias chegaram com o sonho de “fazer a América” e acabaram por contribuir expressivamente para a história do país e para a cultura brasileira. Deles, o Brasil herdou sobrenomes, sotaques, costumes, comidas e vestimentas.

A história da migração humana não deve ser encarada como uma questão relacionada exclusivamente ao passado; há a necessidade de tratar sobre deslocamentos mais recentes.

Disponível em: <http://www.museudaimigracao.org.br>. Acesso em: 19 jul. 2012 (adaptado).

Acre sofre com invasão de imigrantes do Haiti



Disponível em: <http://mg1.com.br>. Acesso em: 19 jul. 2012.

Nos últimos três dias de 2011, uma leva de 500 haitianos entrou ilegalmente no Brasil pelo Acre, elevando para 1 400 a quantidade de imigrantes daquele país no município de Brasileia (AC). Segundo o secretário-adjunto de Justiça e Direitos Humanos do Acre, José Henrique Corinto, os haitianos ocuparam a praça da cidade. A Defesa Civil do estado enviou galões de água potável e alimentos, mas ainda não providenciou abrigo.

A imigração ocorre porque o Haiti ainda não se recuperou dos estragos causados pelo terremoto de janeiro de 2010. O primeiro grande grupo de haitianos chegou a Brasileia no dia 14 de janeiro de 2011. Desde então, a entrada ilegal continua, mas eles não são expulsos: obtêm visto humanitário e conseguem tirar carteira de trabalho e CPF para morar e trabalhar no Brasil.

Segundo Corinto, ao contrário do que se imagina, não são haitianos miseráveis que buscam o Brasil para viver, mas pessoas da classe média do Haiti e profissionais qualificados, como engenheiros, professores, advogados, pedreiros, mestres de obras e carpinteiros. Porém, a maioria chega sem dinheiro.

Os brasileiros sempre criticaram a forma como os países europeus tratavam os imigrantes. Agora, chegou a nossa vez — afirma Corinto.

Disponível em: <http://www.dpf.gov.br>. Acesso em: 19 jul. 2012 (adaptado).

Trilha da Costura

Os imigrantes bolivianos, pelo último censo, são mais de 3 milhões, com população de aproximadamente 9,119 milhões de pessoas. A Bolívia em termos de IDH ocupa a posição de 114º de acordo com os parâmetros estabelecidos pela ONU. O país está no centro da América do Sul e é o mais pobre, sendo 70% da população considerada miserável. Os principais países para onde os bolivianos imigrantes dirigem-se são: Argentina, Brasil, Espanha e Estados Unidos.

Assim sendo, este é o quadro social em que se encontra a maioria da população da Bolívia, estes dados já demonstram que as motivações do fluxo de imigração não são políticas, mas econômicas. Como a maioria da população tem baixa qualificação, os trabalhos artesanais, culturais, de campo e de costura são os de mais fácil acesso.

OLIVEIRA, R.T. Disponível em: <http://www.ipea.gov.br>. Acesso em: 19 jul. 2012 (adaptado).

INSTRUÇÕES:

- O **rascunho** da redação deve ser feito no espaço apropriado.
- O **texto definitivo** deve ser escrito **à tinta**, na **folha própria**, em até **30 linhas**.
- A redação com até 7 (sete) linhas escritas será considerada “insuficiente” e receberá nota zero.
- A redação que fugir ao tema ou que não atender ao **tipo dissertativo-argumentativo** receberá nota zero.
- A redação que apresentar proposta de intervenção que desrespeite os direitos humanos receberá nota zero.
- A redação que apresentar cópia dos textos da Proposta de Redação ou do Caderno de Questões terá o número de linhas copiadas desconsiderado para efeito de correção.

LINGUAGENS, CÓDIGOS E SUAS TECNOLOGIAS

Questões de 91 a 135

Questões de 91 a 95 (opção inglês)

QUESTÃO 91

I, too

I, too, sing America.

I am the darker brother.
They send me to eat in the kitchen
When company comes,
But I laugh,
And eat well,
And grow strong.

Tomorrow,
I'll be at the table
When company comes.
Nobody'll dare
Say to me,
"Eat in the kitchen,"
Then.

Besides,
They'll see how beautiful I am
And be ashamed

I, too, am America.

HUGHES, L. In: RAMPERSAD, A.; ROESSEL, D. (Ed.) *The collected poems of Langston Hughes*. New York: Knopf, 1994.

Langston Hughes foi um poeta negro americano que viveu no século XX e escreveu *I, too* em 1932. No poema, a personagem descreve uma prática racista que provoca nela um sentimento de

- A coragem, pela superação.
- B vergonha, pelo retraimento.
- C compreensão, pela aceitação.
- D superioridade, pela arrogância.
- E resignação, pela submissão.

QUESTÃO 92

23 February 2012 Last update at 16:53 GMT
BBC World Service

J. K. Rowling to pen first novel for adults



Author J. K. Rowling has announced plans to publish her first novel for adults, which will be "very different" from the Harry Potter books she is famous for.

The book will be published worldwide although no date or title has yet been released. "The freedom to explore new territory is a gift that Harry's success has brought me," Rowling said.

All the Potter books were published by Bloomsbury, but Rowling has chosen a new publisher for her debut into adult fiction. "Although I've enjoyed writing it every bit as much, my next book will be very different to the Harry Potter series, which has been published so brilliantly by Bloomsbury and my other publishers around the world," she said, in a statement. "I'm delighted to have a second publishing home in Little, Brown, and a publishing team that will be a great partner in this new phase of my writing life."

Disponível em: www.bbc.co.uk. Acesso em: 24 fev. 2012 (adaptado).

J. K. Rowling tornou-se famosa por seus livros sobre o bruxo Harry Potter e suas aventuras, adaptados para o cinema. Esse texto, que aborda a trajetória da escritora britânica, tem por objetivo

- A informar que a famosa série *Harry Potter* será adaptada para o público adulto.
- B divulgar a publicação do romance por J. K. Rowling inteiramente para adultos.
- C promover a nova editora que irá publicar os próximos livros de J. K. Rowling.
- D informar que a autora de *Harry Potter* agora pretende escrever para adultos.
- E anunciar um novo livro da série *Harry Potter* publicado por editora diferente.

QUESTÃO 93

Quotes of the Day

Friday, Sep. 02, 2011

“There probably was a shortage of not just respect and boundaries but also love. But you do need, when they cross the line and break the law, to be very tough.”

British Prime Minister DAVID CAMERON, arguing that those involved in the recent riots in England need “tough love” as he vows to “get to grips” with the country’s problem families.

Disponível em: www.time.com. Acesso em: 5 nov. 2011 (adaptado).

A respeito dos tumultos causados na Inglaterra em agosto de 2011, as palavras de alerta de David Cameron têm como foco principal

- A** enfatizar a discriminação contra os jovens britânicos e suas famílias.
- B** criticar as ações agressivas demonstradas nos tumultos pelos jovens.
- C** estabelecer relação entre a falta de limites dos jovens e o excesso de amor.
- D** reforçar a ideia de que os jovens precisam de amor, mas também de firmeza.
- E** descrever o tipo de amor que gera problemas às famílias de jovens britânicos.

QUESTÃO 94

AIN'T NO WAY
 Y'ALL SHULD BE HERE
 IF YA DONT SPEAK
 ENGLISH REAL
 GOOD!

SURE! MAY
 I SUGGEST YOU AVOID
 DOUBLE NEGATIVES AND
 DON'T FORGET
 TO USE AN
 ADVERB!

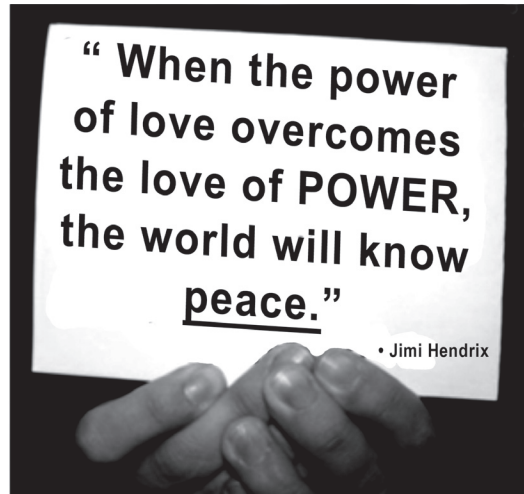


DONAR. Disponível em: <http://politicalgraffiti.wordpress.com>. Acesso em: 17 ago. 2011.

Cartuns são produzidos com o intuito de satirizar comportamentos humanos e assim oportunizam a reflexão sobre nossos próprios comportamentos e atitudes. Nesse cartum, a linguagem utilizada pelos personagens em uma conversa em inglês evidencia a

- A** predominância do uso da linguagem informal sobre a língua padrão.
- B** dificuldade de reconhecer a existência de diferentes usos da linguagem.
- C** aceitação dos regionalismos utilizados por pessoas de diferentes lugares.
- D** necessidade de estudo da língua inglesa por parte dos personagens.
- E** facilidade de compreensão entre falantes com sotaques distintos.

QUESTÃO 95



Aproveitando-se de seu *status* social e da possível influência sobre seus fãs, o famoso músico Jimi Hendrix associa, em seu texto, os termos *love*, *power* e *peace* para justificar sua opinião de que

- A** a paz tem o poder de aumentar o amor entre os homens.
- B** o amor pelo poder deve ser menor do que o poder do amor.
- C** o poder deve ser compartilhado entre aqueles que se amam.
- D** o amor pelo poder é capaz de desunir cada vez mais as pessoas.
- E** a paz será alcançada quando a busca pelo poder deixar de existir.

LINGUAGENS, CÓDIGOS E SUAS TECNOLOGIAS

Questões de 91 a 135

Questões de 91 a 95 (opção espanhol)

QUESTÃO 91

Obituario*

Lo enterraron en el corazón de un bosque de pinos y sin embargo el ataúd de pino fue importado de Ohio; lo enterraron al borde de una mina de hierro y sin embargo los clavos de su ataúd y el hierro de la pala fueron importados de Pittsburg; lo enterraron junto al mejor pasto de ovejas del mundo y sin embargo las lanas de los festones del ataúd eran de California. Lo enterraron con un traje de New York, un par de zapatos de Boston, una camisa de Cincinnati y unos calcetines de Chicago. Guatemala no facilitó nada al funeral, excepto el cadáver.

* Paráfrasis de un famoso texto norteamericano.

NOGUERAS, L. R. *Las quince mil vidas del caminante*. La Habana: Unea, 1977.

O texto de Luis Rogelio Nogueras faz uma crítica

- A à dependência de produtos estrangeiros por uma nação.
- B ao comércio desigual entre Guatemala e Estados Unidos.
- C à má qualidade das mercadorias guatemaltecas.
- D às dificuldades para a realização de um funeral.
- E à ausência de recursos naturais na Guatemala.

QUESTÃO 92

Excavarán plaza ceremonial del frontis norte de huaca de la Luna

Trujillo, feb. 25 (ANDINA). Tras limpiar los escombros del saqueo colonial y de las excavaciones de los últimos años en huaca de la Luna, este año se intervendrá la plaza ceremonial del frontis norte, en donde se ubica la gran fachada del sitio arqueológico ubicado en Trujillo, La Libertad, informaron hoy fuentes culturales. Después de varias semanas de trabajo, el material fue sacado del sitio arqueológico para poder apreciar mejor la extensión y forma del patio que, según las investigaciones, sirvió hace unos 1 500 como escenario de extraños rituales.

El codirector del Proyecto Arqueológico Huacas del Sol y la Luna, Ricardo Morales Gamarra, sostuvo que con la zona limpia de escombros, los visitantes conocerán la verdadera proporción de la imponente fachada, tal y como la conocieron los moches. Por su parte, el arqueólogo Santiago Uceda, también codirector del proyecto, dijo que las excavaciones se iniciarán este año para determinar qué otros elementos componían dicha área. "Hace poco nos sorprendió encontrar un altar semicircular escalonado. Era algo que no esperábamos. Por lo tanto, es difícil saber qué es lo que aún está escondido en la zona que exploraremos", señaló Uceda a la Agencia Andina.

La huaca de la Luna se localiza en el distrito trujillano de Moche. Es una pirámide de adobe adornada, en sus murales, con impresionantes imágenes mitológicas, muchas de ellas en alto relieve.

Disponível em: www.andina.com.pe. Acesso em: 23 fev. 2012 (adaptado).

O texto apresenta informações sobre um futuro trabalho de escavação de um sítio arqueológico peruano. Sua leitura permite inferir que

- A a pirâmide *huaca de la Luna* foi construída durante o período colonial peruano.
- B o sítio arqueológico contém um altar semicircular bastante deteriorado.
- C a pirâmide *huaca de la Luna* foi construída com cerâmica.
- D o sítio arqueológico possui um pátio que foi palco de rituais.
- E o sítio arqueológico mantém escombros deixados pela civilização moche.

QUESTÃO 93

Nuestra comarca del mundo, que hoy llamamos América Latina perfeccionó sus funciones. Este ya no es el reino de las maravillas donde la realidad derrotaba a la fábula y la imaginación era humillada por los trofeos de la conquista, los yacimientos de oro y las montañas de plata. Pero la región sigue trabajando de sirvienta. Es América Latina, la región de las venas abiertas. Desde el descubrimiento hasta nuestros días, todo se ha trasmutado siempre en capital europeo o, más tarde, norteamericano, y como tal se ha acumulado y se acumula en los lejanos centros del poder. Todo: la tierra, sus frutos y sus profundidades ricas en minerales, los hombres y su capacidad de trabajo y de consumo, los recursos naturales y los recursos humanos. El modo de producción y la estructura de clases de cada lugar han sido sucesivamente determinados, desde fuera, por su incorporación al engranaje universal del capitalismo. Nuestra derrota estuvo siempre implícita en la victoria ajena; nuestra riqueza ha generado siempre nuestra pobreza para alimentar la prosperidad de otros: los imperios y sus caporales nativos.

GALEANO, E. *Las venas abiertas de América Latina*. Buenos Aires: Siglo Veintiuno Argentina, 2010 (adaptado).

A partir da leitura do texto, infere-se que, ao longo da história da América Latina,

- A suas relações com as nações exploradoras sempre se caracterizaram por uma rede de dependências.
- B seus países sempre foram explorados pelas mesmas nações desde o início do processo de colonização.
- C sua sociedade sempre resistiu à aceitação do capitalismo imposto pelo capital estrangeiro.
- D suas riquezas sempre foram acumuladas longe dos centros de poder.
- E suas riquezas nunca serviram ao enriquecimento das elites locais.

QUESTÃO 94



QUINO. Disponível em: <http://mafalda.dreamers.com>. Acesso em: 27 fev. 2012.

A personagem Susanita, no último quadro, inventa o vocábulo *mujerez*, utilizando-se de um recurso de formação de palavra existente na língua espanhola. Na concepção da personagem, o sentido do vocábulo *mujerez* remete à

- A** falta de feminilidade das mulheres que não se dedicam às tarefas domésticas.
- B** valorização das mulheres que realizam todas as tarefas domésticas.
- C** inferioridade das mulheres que praticam as tarefas domésticas.
- D** relevância social das mulheres que possuem empregados para realizar as tarefas domésticas.
- E** independência das mulheres que não se prendem apenas às tarefas domésticas.

QUESTÃO 95

Las Malvinas son nuestras

Sí, las islas son nuestras. Esta afirmación no se basa en sentimientos nacionalistas, sino en normas y principios del derecho internacional que, si bien pueden suscitar interpretaciones en contrario por parte de los británicos, tienen la fuerza suficiente para imponerse.

Los británicos optaron por sostener el derecho de autodeterminación de los habitantes de las islas, invocando la resolución 1514 de las Naciones Unidas, que acordó a los pueblos coloniales el derecho de independizarse de los Estados colonialistas. Pero esta tesis es también indefendible. La citada resolución se aplica a los casos de pueblos sojuzgados por una potencia extranjera, que no es el caso de Malvinas, donde Gran Bretaña procedió a expulsar a los argentinos que residían en las islas, reemplazándolos por súbditos de la corona que pasaron a ser kelpers y luego ciudadanos británicos. Además, según surge de la misma resolución, el principio de autodeterminación no es de aplicación cuando afecta la integridad territorial de un país.

Finalmente, en cuanto a qué haría la Argentina con los habitantes británicos de las islas en caso de ser recuperadas, la respuesta se encuentra en la cláusula transitoria primera de la Constitución Nacional sancionada por la reforma de 1994, que impone respetar el modo de vida de los isleños, lo que además significa respetar sus intereses.

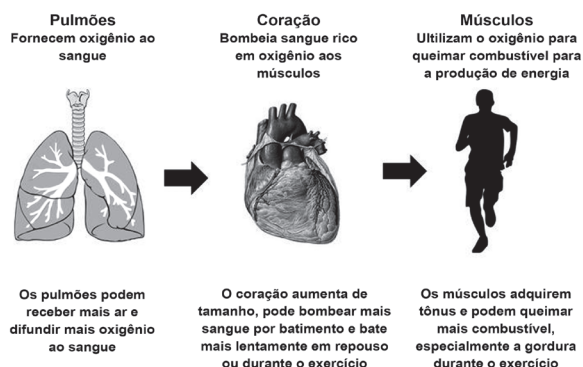
MENEM, E. Disponível em: www.lanacion.com.ar. Acesso em: 18 fev. 2012 (adaptado).

O texto apresenta uma opinião em relação à disputa entre a Argentina e o Reino Unido pela soberania sobre as Ilhas Malvinas, ocupadas pelo Reino Unido em 1833. O autor dessa opinião apoia a reclamação argentina desse arquipélago, argumentando que

- A** a descolonização das ilhas em disputa está contemplada na lei comum britânica.
- B** as Nações Unidas estão desacreditadas devido à ambiguidade das suas resoluções.
- C** o princípio de autodeterminação carece de aplicabilidade no caso das Ilhas Malvinas.
- D** a população inglesa compreende a reivindicação nacionalista da administração argentina.
- E** os cidadãos de origem britânica assentados nas ilhas seriam repatriados para a Inglaterra.

QUESTÃO 96

Efeitos do exercício físico



A ventilação, a circulação e o metabolismo estão intimamente ligados e todos melhoram com o treinamento

NIEMAN, D. Exercício e saúde. São Paulo: Manole, 1999 (adaptado).

A partir dos efeitos fisiológicos do exercício físico no organismo, apresentados na figura, são adaptações benéficas à saúde de um indivíduo:

- A** Diminuição da frequência cardíaca em repouso e aumento da oxigenação do sangue.
- B** Diminuição da oxigenação do sangue e aumento da frequência cardíaca em repouso.
- C** Diminuição da frequência cardíaca em repouso e aumento da gordura corporal.
- D** Diminuição do tônus muscular e aumento do percentual de gordura corporal.
- E** Diminuição da gordura corporal e aumento da frequência cardíaca em repouso.

QUESTÃO 97

Assine Nossa Revista e com mais
R\$ 58,10 ...

...leve também a versão digital
para tablet e PC por 1 ano e meio.

Disponível em: www.assine.abril.com.br. Acesso em: 29 fev. 2012 (adaptado).

Com o advento da internet, as versões de revistas e livros também se adaptaram às novas tecnologias. A análise do texto publicitário apresentado revela que o surgimento das novas tecnologias

- A** proporcionou mudanças no paradigma de consumo e oferta de revistas e livros.
- B** incentivou a desvalorização das revistas e livros impressos.
- C** viabilizou a aquisição de novos equipamentos digitais.
- D** aqueceu o mercado de venda de computadores.
- E** diminuiu os incentivos à compra de eletrônicos.

QUESTÃO 98

“Ele era o inimigo do rei”, nas palavras de seu biógrafo, Lira Neto. Ou, ainda, “um romancista que colecionava desafetos, azucrinava D. Pedro II e acabou inventando o Brasil”. Assim era José de Alencar (1829-1877), o conhecido autor de *O guarani* e *Iracema*, tido como o pai do romance no Brasil. Além de criar clássicos da literatura brasileira com temas nativistas, indianistas e históricos, ele foi também folhetinista, diretor de jornal, autor de peças de teatro, advogado, deputado federal e até ministro da Justiça. Para ajudar na descoberta das múltiplas facetas desse personagem do século XIX, parte de seu acervo inédito será digitalizada.

História Viva, n. 99, 2011.

Com base no texto, que trata do papel do escritor José de Alencar e da futura digitalização de sua obra, depreende-se que

- A** a digitalização dos textos é importante para que os leitores possam compreender seus romances.
- B** o conhecido autor de *O guarani* e *Iracema* foi importante porque deixou uma vasta obra literária com temática atemporal.
- C** a divulgação das obras de José de Alencar, por meio da digitalização, demonstra sua importância para a história do Brasil Imperial.
- D** a digitalização dos textos de José de Alencar terá importante papel na preservação da memória linguística e da identidade nacional.
- E** o grande romancista José de Alencar é importante porque se destacou por sua temática indianista.

QUESTÃO 99

eu gostava muito de passeá... saí com as minhas colegas... brincá na porta di casa di vôlei... andá de patins... bicicleta... quando eu levava um tombo ou outro... eu era a:... a palhaça da turma... ((risos))... eu acho que foi uma das fases mais... assim... gostosas da minha vida foi... essa fase de quinze... dos meus treze aos dezessete anos...

A.P.S., sexo feminino, 38 anos, nível de ensino fundamental.
Projeto Fala Goiana, UFG, 2010 (inédito).

Um aspecto da composição estrutural que caracteriza o relato pessoal de A.P.S. como modalidade falada da língua é

- A** predomínio de linguagem informal entrecortada por pausas.
- B** vocabulário regional desconhecido em outras variedades do português.
- C** realização do plural conforme as regras da tradição gramatical.
- D** ausência de elementos promotores de coesão entre os eventos narrados.
- E** presença de frases incompreensíveis a um leitor iniciante.



QUESTÃO 100

Verbo ser

QUE VAI SER quando crescer? Vivem perguntando em redor. Que é ser? É ter um corpo, um jeito, um nome? Tenho os três. E sou? Tenho de mudar quando crescer? Usar outro nome, corpo e jeito? Ou a gente só principia a ser quando cresce? É terrível, ser? Dói? É bom? É triste? Ser: pronunciado tão depressa, e cabe tantas coisas? Repito: ser, ser, ser. Er. R. Que vou ser quando crescer? Sou obrigado a? Posso escolher? Não dá para entender. Não vou ser. Não quero ser. Vou crescer assim mesmo. Sem ser. Esquecer.

ANDRADE, C. D. *Poesia e prosa*. Rio de Janeiro: Nova Aguilar, 1992.

A inquietação existencial do autor com a autoimagem corporal e a sua corporeidade se desdobra em questões existenciais que têm origem

- A no conflito do padrão corporal imposto contra as convicções de ser autêntico e singular.
- B na aceitação das imposições da sociedade seguindo a influência de outros.
- C na confiança no futuro, ofuscada pelas tradições e culturas familiares.
- D no anseio de divulgar hábitos enraizados, negligenciados por seus antepassados.
- E na certeza da exclusão, revelada pela indiferença de seus pares.

QUESTÃO 101

E como manejava bem os cordéis de seus títeres, ou ele mesmo, títere voluntário e consciente, como entregava o braço, as pernas, a cabeça, o tronco, como se desfazia de suas articulações e de seus reflexos quando achava nisso conveniência. Também ele soubera apoderar-se dessa arte, mais artifício, toda feita de sutilezas e grosserias, de expectativa e oportunidade, de insolência e submissão, de silêncios e rompantes, de anulação e prepotência. Conhecia a palavra exata para o momento preciso, a frase picante ou obscena no ambiente adequado, o tom humilde diante do superior útil, o grosseiro diante do inferior, o arrogante quando o poderoso em nada o podia prejudicar. Sabia desfazer situações equívocas, e armar intrigas das quais se saía sempre bem, e sabia, por experiência própria, que a fortuna se ganha com uma frase, num dado momento, que este momento único, irrecuperável, irreversível, exige um estado de alerta para a sua apropriação.

RAWET, S. O aprendizado. In: *Diálogo*. Rio de Janeiro: GRD, 1963 (fragmento).

No conto, o autor retrata criticamente a habilidade do personagem no manejo de discursos diferentes segundo a posição do interlocutor na sociedade. A crítica à conduta do personagem está centrada

- A na imagem do títere ou fantoche em que o personagem acaba por se transformar, acreditando dominar os jogos de poder na linguagem.
- B na alusão à falta de articulações e reflexos do personagem, dando a entender que ele não possui o manejo dos jogos discursivos em todas as situações.
- C no comentário, feito em tom de censura pelo autor, sobre as frases obscenas que o personagem emite em determinados ambientes sociais.
- D nas expressões que mostram tons opostos nos discursos empregados aleatoriamente pelo personagem em conversas com interlocutores variados.
- E no falso elogio à originalidade atribuída a esse personagem, responsável por seu sucesso no aprendizado das regras de linguagem da sociedade.

QUESTÃO 102

Labaredas nas trevas Fragmentos do diário secreto de Teodor Konrad Nalecz Korzeniowski

20 DE JULHO [1912]

Peter Sumerville pede-me que escreva um artigo sobre Crane. Envio-lhe uma carta: "Acredite-me, prezado senhor, nenhum jornal ou revista se interessaria por qualquer coisa que eu, ou outra pessoa, escrevesse sobre Stephen Crane. Ririam da sugestão. [...] Dificilmente encontro alguém, agora, que saiba quem é Stephen Crane ou lembre-se de algo dele. Para os jovens escritores que estão surgindo ele simplesmente não existe."

20 DE DEZEMBRO [1919]

Muito peixe foi embrulhado pelas folhas de jornal. Sou reconhecido como o maior escritor vivo da língua inglesa. Já se passaram dezenove anos desde que Crane morreu, mas eu não o esqueço. E parece que outros também não. *The London Mercury* resolveu celebrar os vinte e cinco anos de publicação de um livro que, segundo eles, foi "um fenômeno hoje esquecido" e me pediram um artigo.

FONSECA, R. *Romance negro e outras histórias*. São Paulo: Companhia das Letras, 1992 (fragmento).

Na construção de textos literários, os autores recorrem com frequência a expressões metafóricas. Ao registrar o enunciado metafórico "Muito peixe foi embrulhado pelas folhas de jornal", pretendeu-se estabelecer, entre os dois fragmentos do texto em questão, uma relação semântica de

- A causalidade, segundo a qual se relacionam as partes de um texto, em que uma contém a causa e a outra, a consequência.
- B temporalidade, segundo a qual se articulam as partes de um texto, situando no tempo o que é relatado nas partes em questão.
- C condicionalidade, segundo a qual se combinam duas partes de um texto, em que uma resulta ou depende de circunstâncias apresentadas na outra.
- D adversidade, segundo a qual se articulam duas partes de um texto em que uma apresenta uma orientação argumentativa distinta e oposta à outra.
- E finalidade, segundo a qual se articulam duas partes de um texto em que uma apresenta o meio, por exemplo, para uma ação e a outra, o desfecho da mesma.

QUESTÃO 103



Disponível em: www.ivancabral.com. Acesso em: 27 fev. 2012.

O efeito de sentido da charge é provocado pela combinação de informações visuais e recursos linguísticos. No contexto da ilustração, a frase proferida recorre à

- A** polissemia, ou seja, aos múltiplos sentidos da expressão “rede social” para transmitir a ideia que pretende veicular.
- B** ironia para conferir um novo significado ao termo “outra coisa”.
- C** homonímia para opor, a partir do advérbio de lugar, o espaço da população pobre e o espaço da população rica.
- D** personificação para opor o mundo real pobre ao mundo virtual rico.
- E** antonímia para comparar a rede mundial de computadores com a rede caseira de descanso da família.

QUESTÃO 104

Com o texto eletrônico, enfim, parece estar ao alcance de nossos olhos e de nossas mãos um sonho muito antigo da humanidade, que se poderia resumir em duas palavras, universalidade e interatividade.

As luzes, que pensavam que Gutenberg tinha propiciado aos homens uma promessa universal, cultivavam um modo de utopia. Elas imaginavam poder, a partir das práticas privadas de cada um, construir um espaço de intercâmbio crítico das ideias e opiniões. O sonho de Kant era que cada um fosse ao mesmo tempo leitor e autor, que emitisse juízos sobre as instituições de seu tempo, quaisquer que elas fossem e que, ao mesmo tempo, pudesse refletir sobre o juízo emitido pelos outros. Aquilo que outrora só era permitido pela comunicação manuscrita ou a circulação dos impressos encontra hoje um suporte poderoso com o texto eletrônico.

CHARTIER, R. **A aventura do livro: do leitor ao navegador**. São Paulo: Imprensa Oficial do Estado de São Paulo; Unesp, 1998.

No trecho apresentado, o sociólogo Roger Chartier caracteriza o texto eletrônico como um poderoso suporte que coloca ao alcance da humanidade o antigo sonho de universalidade e interatividade, uma vez que cada um passa a ser, nesse espaço de interação social, leitor e autor ao mesmo tempo. A universalidade e a interatividade que o texto eletrônico possibilita estão diretamente relacionadas à função social da internet de

- A** propiciar o livre e imediato acesso às informações e ao intercâmbio de julgamentos.
- B** globalizar a rede de informações e democratizar o acesso aos saberes.
- C** expandir as relações interpessoais e dar visibilidade aos interesses pessoais.
- D** propiciar entretenimento e acesso a produtos e serviços.
- E** expandir os canais de publicidade e o espaço mercadológico.

QUESTÃO 105

O senhor

Carta a uma jovem que, estando em uma roda em que dava aos presentes o tratamento de você, se dirigiu ao autor chamando-o “o senhor”:

Senhora:

Aquele a quem chamastes senhor aqui está, de peito magoado e cara triste, para vos dizer que senhor ele não é, de nada, nem de ninguém.

Bem o sabeis, por certo, que a única nobreza do plebeu está em não querer esconder sua condição, e esta nobreza tenho eu. Assim, se entre tantos senhores ricos e nobres a quem chamáveis você escolhestes a mim para tratar de senhor, é bem de ver que só poderíeis ter encontrado essa senhoria nas rugas de minha testa e na prata de meus cabelos. Senhor de muitos anos, eis aí; o território onde eu mando é no país do tempo que foi. Essa palavra “senhor”, no meio de uma frase, ergueu entre nós um muro frio e triste.

Vi o muro e calei: não é de muito, eu juro, que me acontece essa tristeza; mas também não era a vez primeira.

BRAGA, R. **A borboleta amarela**. Rio de Janeiro: Record, 1991.

A escolha do tratamento que se queira atribuir a alguém geralmente considera as situações específicas de uso social. A violação desse princípio causou um mal-estar no autor da carta. O trecho que descreve essa violação é:

- A** “Essa palavra, ‘senhor’, no meio de uma frase ergueu entre nós um muro frio e triste.”
- B** “A única nobreza do plebeu está em não querer esconder a sua condição.”
- C** “Só poderíeis ter encontrado essa senhoria nas rugas de minha testa.”
- D** “O território onde eu mando é no país do tempo que foi.”
- E** “Não é de muito, eu juro, que acontece essa tristeza; mas também não era a vez primeira.”

QUESTÃO 106




LAERTE. Disponível em: <http://blog.educacional.com.br>. Acesso em: 8 set. 2011.

Que estratégia argumentativa leva o personagem do terceiro quadrinho a persuadir sua interlocutora?

- A** Prova concreta, ao expor o produto ao consumidor.
- B** Consenso, ao sugerir que todo vendedor tem técnica.
- C** Raciocínio lógico, ao relacionar uma fruta com um produto eletrônico.
- D** Comparação, ao enfatizar que os produtos apresentados anteriormente são inferiores.
- E** Indução, ao elaborar o discurso de acordo com os anseios do consumidor.

QUESTÃO 107

Não somos tão especiais



Extra, extra. Este macaco é humano.

Todas as características tidas como exclusivas dos humanos são compartilhadas por outros animais, ainda que em menor grau.

INTELIGÊNCIA

A ideia de que somos os únicos animais racionais tem sido destruída desde os anos 40. A maioria das aves e mamíferos tem algum tipo de raciocínio.

AMOR

O amor, tido como o mais elevado dos sentimentos, é parecido em várias espécies, como os corvos, que também criam laços duradouros, se preocupam com o ente querido e ficam de luto depois de sua morte.

CONSCIÊNCIA

Chimpanzés se reconhecem no espelho. Orangotangos observam e enganam humanos distraídos. Sinais de que sabem quem são e se distinguem dos outros. Ou seja, são conscientes.

CULTURA

O primatologista Frans de Waal juntou vários exemplos de cetáceos e primatas que são capazes de aprender novos hábitos e de transmiti-los para as gerações seguintes. O que é cultura se não isso?

BURGIERMAN, D. *Superinteressante*, n. 190, jul. 2003.

O título do texto traz o ponto de vista do autor sobre a suposta supremacia dos humanos em relação aos outros animais. As estratégias argumentativas utilizadas para sustentar esse ponto de vista são

- A** definição e hierarquia.
- B** exemplificação e comparação.
- C** causa e consequência.
- D** finalidade e meios.
- E** autoridade e modelo.

QUESTÃO 108

TEXTO I

Antigamente

Antigamente, os pirralhos dobravam a língua diante dos pais e se um se esquecia de arear os dentes antes de cair nos braços de Morfeu, era capaz de entrar no couro. Não devia também se esquecer de lavar os pés, sem tugar nem mugir. Nada de bater na cacunda do padrinho, nem de debicar os mais velhos, pois levava tunda. Ainda cedinho, aguava as plantas, ia ao corte e logo voltava aos penates. Não ficava mangando na rua, nem escapulia do mestre, mesmo que não entendesse pataquina da instrução moral e cívica. O verdadeiro smart calçava botina de botões para comparecer todo liró ao copo d'água, se bem que no convescote apenas lambiscasse, para evitar flatos. Os bilontras é que eram um precipício, jogando com pau de dois bicos, pelo que carecia muita cautela e caldo de galinha. O melhor era pôr as barbas de molho diante de um treteiro de topete, depois de fintar e engambelar os coiós, e antes que se pusesse tudo em pratos limpos, ele abria o arco.

ANDRADE, C. D. *Poesia e prosa*. Rio de Janeiro: Nova Aguilar, 1983 (fragmento).

TEXTO II

Palavras do arco da velha

Expressão	Significado
Cair nos braços de Morfeu	Dormir
Debicar	Zombar, ridicularizar
Tunda	Surra
Mangar	Escarnecer, caçoar
Tugir	Murmurar
Liró	Bem-vestido
Copo d'água	Lanche oferecido pelos amigos
Convescote	Piquenique
Bilontra	Velhaco
Treteiro de topete	Tratante atrevido
Abrir o arco	Fugir

FIORIN, J. L. As línguas mudam. In: *Revista Língua Portuguesa*, n. 24, out. 2007 (adaptado).

Na leitura do fragmento do texto *Antigamente* constata-se, pelo emprego de palavras obsoletas, que itens lexicais outrora produtivos não mais o são no português brasileiro atual. Esse fenômeno revela que

- A a língua portuguesa de antigamente carecia de termos para se referir a fatos e coisas do cotidiano.
- B o português brasileiro se constitui evitando a ampliação do léxico proveniente do português europeu.
- C a heterogeneidade do português leva a uma estabilidade do seu léxico no eixo temporal.
- D o português brasileiro apoia-se no léxico inglês para ser reconhecido como língua independente.
- E o léxico do português representa uma realidade linguística variável e diversificada.

QUESTÃO 109

HAGAR DIK BROWNE



BROWNE, D. Folha de S. Paulo, 13 ago. 2011.

As palavras e as expressões são mediadoras dos sentidos produzidos nos textos. Na fala de Hagar, a expressão “é como se” ajuda a conduzir o conteúdo enunciado para o campo da

- A conformidade, pois as condições meteorológicas evidenciam um acontecimento ruim.
- B flexibilidade, pois o personagem se refere aos tubarões usando um pronome reflexivo.
- C condicionalidade, pois a atenção dos personagens é a condição necessária para a sua sobrevivência.
- D possibilidade, pois a proximidade dos tubarões leva à suposição do perigo iminente para os homens.
- E impessoalidade, pois o personagem usa a terceira pessoa para expressar o distanciamento dos fatos.

QUESTÃO 110

Cabeludinho

Quando a Vó me recebeu nas férias, ela me apresentou aos amigos: Este é meu neto. Ele foi estudar no Rio e voltou de ateu. Ela disse que eu voltei de ateu. Aquela preposição deslocada me fantasiava de ateu. Como quem dissesse no Carnaval: aquele menino está fantasiado de palhaço. Minha avó entendia de regências verbais. Ela falava de sério. Mas todo-mundo riu. Porque aquela preposição deslocada podia fazer de uma informação um chiste. E fez. E mais: eu acho que buscar a beleza nas palavras é uma solenidade de amor. E pode ser instrumento de rir. De outra feita, no meio da pelada um menino gritou: Disilimina esse, Cabeludinho. Eu não disiliminei ninguém. Mas aquele verbo novo trouxe um perfume de poesia à nossa quadra. Aprendi nessas férias a brincar de palavras mais do que trabalhar com elas. Comecei a não gostar de palavra engavetada. Aquela que não pode mudar de lugar. Aprendi a gostar mais das palavras pelo que elas entoam do que pelo que elas informam. Por depois ouvi um vaqueiro a cantar com saudade: Ai morena, não me escreve / que eu não sei a ler. Aquele a preposto ao verbo ler, ao meu ouvir, ampliava a solidão do vaqueiro.

BARROS, M. *Memórias inventadas: a infância*. São Paulo: Planeta, 2003.

No texto, o autor desenvolve uma reflexão sobre diferentes possibilidades de uso da língua e sobre os sentidos que esses usos podem produzir, a exemplo das expressões “voltou de ateu”, “disilimina esse” e “eu não sei a ler”. Com essa reflexão, o autor destaca

- A os desvios linguísticos cometidos pelos personagens do texto.
- B a importância de certos fenômenos gramaticais para o conhecimento da língua portuguesa.
- C a distinção clara entre a norma culta e as outras variedades linguísticas.
- D o relato fiel de episódios vividos por Cabeludinho durante as suas férias.
- E a valorização da dimensão lúdica e poética presente nos usos coloquiais da linguagem.



* A Z U L 2 5 D O M 1 1 *

QUESTÃO 111

TEXTO I

A característica da oralidade radiofônica, então, seria aquela que propõe o diálogo com o ouvinte: a simplicidade, no sentido da escolha lexical; a concisão e coerência, que se traduzem em um texto curto, em linguagem coloquial e com organização direta; e o ritmo, marcado pelo locutor, que deve ser o mais natural (do diálogo). É esta organização que vai “reger” a veiculação da mensagem, seja ela interpretada ou de improviso, com objetivo de dar melodia à transmissão oral, dar emoção, personalidade ao relato de fato.

VELHO, A. P. M. *A linguagem do rádio multimídia*. Disponível em: www.bocc.ubi.pt. Acesso em: 27 fev. 2012.

TEXTO II

A dois passos do paraíso

A Rádio Atividade leva até vocês
Mais um programa da séria série
“Dedique uma canção a quem você ama”
Eu tenho aqui em minhas mãos uma carta
Uma carta d’uma ouvinte que nos escreve
E assina com o singelo pseudônimo de
“Mariposa Apaixonada de Guadalupe”
Ela nos conta que no dia que seria
o dia mais feliz de sua vida
Arlindo Orlando, seu noivo
Um caminhoneiro conhecido da pequena e
Pacata cidade de Miracema do Norte
Fugiu, desapareceu, escafedeu-se
Oh! Arlindo Orlando volte
Onde quer que você se encontre
Volte para o seio de sua amada
Ela espera ver aquele caminhão voltando
De faróis baixos e para-choque duro...

BLITZ. Disponível em: <http://letras.terra.com.br>. Acesso em: 28 fev. 2012 (fragmento).

Em relação ao Texto I, que analisa a linguagem do rádio, o Texto II apresenta, em uma letra de canção,

- A) estilo simples e marcado pela interlocução com o receptor, típico da comunicação radiofônica.
- B) lirismo na abordagem do problema, o que o afasta de uma possível situação real de comunicação radiofônica.
- C) marcação rítmica dos versos, o que evidencia o fato de o texto pertencer a uma modalidade de comunicação diferente da radiofônica.
- D) direcionamento do texto a um ouvinte específico, divergindo da finalidade de comunicação do rádio, que é atingir as massas.
- E) objetividade na linguagem caracterizada pela ocorrência rara de adjetivos, de modo a diminuir as marcas de subjetividade do locutor.

QUESTÃO 112

Ai, palavras, ai, palavras
que estranha potência a vossa!

Todo o sentido da vida
principia a vossa porta:
o mel do amor cristaliza
seu perfume em vossa rosa;
sois o sonho e sois a audácia,
calúnia, fúria, derrota...

A liberdade das almas,
ai! Com letras se elabora...
E dos venenos humanos
sois a mais fina retorta:
frágil, frágil, como o vidro
e mais que o aço poderosa!
Reis, impérios, povos, tempos,
pelo vosso impulso rodam...

MEIRELES, C. *Obra poética*. Rio de Janeiro: Nova Aguilar, 1985 (fragmento).

O fragmento destacado foi transcrito do *Romanceiro da Inconfidência*, de Cecília Meireles. Centralizada no episódio histórico da Inconfidência Mineira, a obra, no entanto, elabora uma reflexão mais ampla sobre a seguinte relação entre o homem e a linguagem:

- A) A força e a resistência humanas superam os danos provocados pelo poder corrosivo das palavras.
- B) As relações humanas, em suas múltiplas esferas, têm seu equilíbrio vinculado ao significado das palavras.
- C) O significado dos nomes não expressa de forma justa e completa a grandeza da luta do homem pela vida.
- D) Renovando o significado das palavras, o tempo permite às gerações perpetuar seus valores e suas crenças.
- E) Como produto da criatividade humana, a linguagem tem seu alcance limitado pelas intenções e gestos.

QUESTÃO 113


Pote Cru é meu pastor. Ele me guiará.
Ele está comprometido de monge.
De tarde deambula no azedal entre torsos de
cachorro, trapas, trapos, panos de regra, couros,
de rato ao podre, vísceras de piranhas, baratas
albinas, dalias secas, vergalhos de lagartos,
linguetas de sapatos, aranhas dependuradas em
gotas de orvalho etc. etc.
Pote Cru, ele dormia nas ruínas de um convento
Foi encontrado em osso.
Ele tinha uma voz de oratórios perdidos.

BARROS, M. *Retrato do artista quando coisa*. Rio de Janeiro: Record, 2002.

Ao estabelecer uma relação com o texto bíblico nesse poema, o eu lírico identifica-se com Pote Cru porque

- A) entende a necessidade de todo poeta ter voz de oratórios perdidos.
- B) elege-o como pastor a fim de ser guiado para a salvação divina.
- C) valoriza nos percursos do pastor a conexão entre as ruínas e a tradição.
- D) necessita de um guia para a descoberta das coisas da natureza.
- E) acompanha-o na opção pela insignificância das coisas.

QUESTÃO 114



Cartaz afixado nas bibliotecas centrais e setoriais da Universidade Federal de Goiás (UFG), 2011.

Considerando-se a finalidade comunicativa comum do gênero e o contexto específico do Sistema de Biblioteca da UFG, esse cartaz tem função predominantemente

- A socializadora, contribuindo para a popularização da arte.
- B sedutora, considerando a leitura como uma obra de arte.
- C estética, propiciando uma apreciação despreziosa da obra.
- D educativa, orientando o comportamento de usuários de um serviço.
- E contemplativa, evidenciando a importância de artistas internacionais.

QUESTÃO 115

Aqui é o país do futebol

Brasil está vazio na tarde de domingo, né?
Olha o sambão, aqui é o país do futebol

[...]

No fundo desse país
Ao longo das avenidas
Nos campos de terra e grama
Brasil só é futebol
Nesses noventa minutos
De emoção e alegria
Esqueço a casa e o trabalho
A vida fica lá fora
Dinheiro fica lá fora
A cama fica lá fora
A mesa fica lá fora
Salário fica lá fora
A fome fica lá fora
A comida fica lá fora
A vida fica lá fora
E tudo fica lá fora

SIMONAL, W. *Aqui é o país do futebol*. Disponível em: www.vagalume.com.br. Acesso em: 27 out. 2011 (fragmento).

Na letra da canção *Aqui é o país do futebol*, de Wilson Simonal, o futebol, como elemento da cultura corporal de movimento e expressão da tradição nacional, é apresentado de forma crítica e emancipada devido ao fato de

- A reforçar a relação entre o esporte futebol e o samba.
- B ser apresentado como uma atividade de lazer.
- C ser identificado com a alegria da população brasileira.
- D promover a reflexão sobre a alienação provocada pelo futebol.
- E ser associado ao desenvolvimento do país.

QUESTÃO 116

LXXVIII (Camões, 1525?-1580)

Leda serenidade deleitosa,
Que representa em terra um paraíso;
Entre rubis e perlas doce riso;
Debaixo de ouro e neve cor-de-rosa;
Presença moderada e graciosa,
Onde ensinando estão despejo e siso
Que se pode por arte e por aviso,
Como por natureza, ser fermosa;
Fala de quem a morte e a vida pende,
Rara, suave; enfim, Senhora, vossa;
Repouso nela alegre e comedido:

Estas as armas são com que me rende
E me cativa Amor; mas não que possa
Despojar-me da glória de rendido.

CAMÕES, L. *Obra completa*. Rio de Janeiro: Nova Aguilar, 2008.



SANZIO, R. (1483-1520) *A mulher com o unicórnio*. Roma, Galleria Borghese.

Disponível em: www.arquipelagos.pt. Acesso em: 29 fev. 2012.

A pintura e o poema, embora sendo produtos de duas linguagens artísticas diferentes, participaram do mesmo contexto social e cultural de produção pelo fato de ambos

- A apresentarem um retrato realista, evidenciado pelo unicórnio presente na pintura e pelos adjetivos usados no poema.
- B valorizarem o excesso de enfeites na apresentação pessoal e na variação de atitudes da mulher, evidenciadas pelos adjetivos do poema.
- C apresentarem um retrato ideal de mulher marcado pela sobriedade e o equilíbrio, evidenciados pela postura, expressão e vestimenta da moça e os adjetivos usados no poema.
- D desprezarem o conceito medieval da idealização da mulher como base da produção artística, evidenciado pelos adjetivos usados no poema.
- E apresentarem um retrato ideal de mulher marcado pela emotividade e o conflito interior, evidenciados pela expressão da moça e pelos adjetivos do poema.



QUESTÃO 117

Das irmãs

os meus irmãos sujando-se
na lama
e eis-me aqui cercada
de alvura e enxovais

eles se provocando e provando
do fogo
e eu aqui fechada
provendo a comida

eles se lambuzando e arrotando
na mesa
e eu a temperada
servindo, contida

os meus irmãos jogando-se
na cama
e eis-me afiançada
por dote e marido

QUEIROZ, S. O *sacro officio*. Belo Horizonte: Comunicação, 1980.

O poema de Sonia Queiroz apresenta uma voz lírica feminina que contrapõe o estilo de vida do homem ao modelo reservado à mulher. Nessa contraposição, ela conclui que

- A a mulher deve conservar uma assepsia que a distingue de homens, que podem se jogar na lama.
- B a palavra “fogo” é uma metáfora que remete ao ato de cozinhar, tarefa destinada às mulheres.
- C a luta pela igualdade entre os gêneros depende da ascensão financeira e social das mulheres.
- D a cama, como sua “alvura e enxovais”, é um símbolo da fragilidade feminina no espaço doméstico.
- E os papéis sociais destinados aos gêneros produzem efeitos e graus de autorrealização desiguais.

QUESTÃO 118

O sedutor médio

Vamos juntar
Nossas rendas e
expectativas de vida
querida,
o que me dizes?
Ter 2, 3 filhos
e ser meio felizes?

VERISSIMO, L. F. *Poesia numa hora dessas?!* Rio de Janeiro: Objetiva, 2002.

No poema *O sedutor médio*, é possível reconhecer a presença de posições críticas

- A nos três primeiros versos, em que “juntar expectativas de vida” significa que, juntos, os cônjuges poderiam viver mais, o que faz do casamento uma convenção benéfica.
- B na mensagem veiculada pelo poema, em que os valores da sociedade são ironizados, o que é acentuado pelo uso do adjetivo “médio” no título e do advérbio “meio” no verso final.
- C no verso “e ser meio felizes?”, em que “meio” é sinônimo de metade, ou seja, no casamento, apenas um dos cônjuges se sentiria realizado.
- D nos dois primeiros versos, em que “juntar rendas” indica que o sujeito poético passa por dificuldades financeiras e almeja os rendimentos da mulher.
- E no título, em que o adjetivo “médio” qualifica o sujeito poético como desinteressante ao sexo oposto e inábil em termos de conquistas amorosas.

QUESTÃO 119

Nós, brasileiros, estamos acostumados a ver juras de amor, feitas diante de Deus, serem quebradas por traição, interesses financeiros e sexuais. Casais se separam como inimigos, quando poderiam ser bons amigos, sem traumas. Bastante interessante a reportagem sobre separação. Mas acho que os advogados consultados, por sua competência, estão acostumados a tratar de grandes separações. Será que a maioria dos leitores da revista tem obras de arte que precisam ser fotografadas antes da separação? Não seria mais útil dar conselhos mais básicos? Não seria interessante mostrar que a separação amigável não interfere no modo de partilha dos bens? Que, seja qual for o tipo de separação, ela não vai prejudicar o direito à pensão dos filhos? Que acordo amigável deve ser assinado com atenção, pois é bastante complicado mudar suas cláusulas? Acho que essas são dicas que podem interessar ao leitor médio.

Disponível em: <http://revistaepoca.globo.com>. Acesso em: 26 fev. 2012 (adaptado).

O texto foi publicado em uma revista de grande circulação na seção de carta do leitor. Nele, um dos leitores manifesta-se acerca de uma reportagem publicada na edição anterior. Ao fazer sua argumentação, o autor do texto

- A faz uma síntese do que foi abordado na reportagem.
- B discute problemas conjugais que conduzem à separação.
- C aborda a importância dos advogados em processos de separação.
- D oferece dicas para orientar as pessoas em processos de separação.
- E rebate o enfoque dado ao tema pela reportagem, lançando novas ideias.

QUESTÃO 120

E-mail com hora programada

Redação INFO, 28 de agosto de 2007.

Agende o envio de e-mails no *Thunderbird* com a extensão *SendLater*

Nem sempre é interessante mandar um e-mail na hora. Há situações em que agendar o envio de uma mensagem é útil, como em datas comemorativas ou quando o e-mail serve para lembrar o destinatário de algum evento futuro. O *Thunderbird*, o ótimo cliente de e-mail do grupo Mozilla, conta com uma extensão para esse fim. Trata-se do *SendLater*. Depois de instalado, ele cria um item no menu de criação de mensagens que permite marcar o dia e a hora exatos para o envio do e-mail. Só há um ponto negativo: para garantir que a mensagem seja enviada na hora, o *Thunderbird* deverá estar em execução. Senão, ele mandará o e-mail somente na próxima vez que for rodado.

Disponível em: <http://info.abril.com.br>. Acesso em: 18 fev. 2012 (adaptado).

Considerando-se a função do *SendLater*, o objetivo do autor do texto *E-mail com hora programada* é

- A eliminar os entraves no envio de mensagens via e-mail.
- B viabilizar a aquisição de conhecimento especializado pelo usuário.
- C permitir a seleção dos destinatários dos textos enviados.
- D controlar a quantidade de informações constantes do corpo do texto.
- E divulgar um produto ampliador da funcionalidade de um recurso comunicativo.

QUESTÃO 121



Picasso, P. *Les Femmes d'Alger (O Version O)*. Nova York, 1911-12.

ARGAN, G. C. *Arte moderna: do Iluminismo aos movimentos contemporâneos*. São Paulo: Companhia das Letras, 1992.

O quadro *Les Femmes d'Alger (O Version O)* (1911-12), de Pablo Picasso, representa o rompimento com a estética clássica e a revolução da arte no início do século XX. Essa nova tendência se caracteriza pela

- A pintura de modelos em planos irregulares.
- mulher como temática central da obra.
- cena representada por vários modelos.
- oposição entre tons claros e escuros.
- nudez explorada como objeto de arte.

QUESTÃO 122



Capa do LP *Os Mutantes*, 1968.

Disponível em: <http://mutantes.com>. Acesso em: 28 fev. 2012.

A capa do LP *Os Mutantes*, de 1968, ilustra o movimento da contracultura. O desafio à tradição nessa criação musical é caracterizado por

- letras e melodias com características amargas e depressivas.
- arranjos baseados em ritmos e melodias nordestinos.
- sonoridades experimentais e confluência de elementos populares e eruditos.
- temas que refletem situações domésticas ligadas à tradição popular.
- ritmos contidos e reservados em oposição aos modelos estrangeiros.

QUESTÃO 123

Sou feliz pelos amigos que tenho. Um deles muito sofre pelo meu descuido com o vernáculo. Por alguns anos ele sistematicamente me enviava missivas eruditas com precisas informações sobre as regras da gramática, que eu não respeitava, e sobre a grafia correta dos vocábulos, que eu ignorava. Fi-lo sofrer pelo uso errado que fiz de uma palavra num desses meus badulaques. Acontece que eu, acostumado a conversar com a gente das Minas Gerais, falei em “varreção” — do verbo “varrer”. De fato, trata-se de um equívoco que, num vestibular, poderia me valer uma reprovação. Pois o meu amigo, paladino da língua portuguesa, se deu ao trabalho de fazer um xerox da página 827 do dicionário, aquela que tem, no topo, a fotografia de uma “varroa”(sic!) (você não sabe o que é uma “varroa”?) para corrigir-me do meu erro. E confesso: ele está certo. O certo é “varrição” e não “varreção”. Mas estou com medo de que os mineiros da roça façam troça de mim porque nunca os vi falar de “varrição”. E se eles rirem de mim não vai me adiantar mostrar-lhes o xerox da página do dicionário com a “varroa” no topo. Porque para eles não é o dicionário que faz a língua. É o povo. E o povo, lá nas montanhas de Minas Gerais, fala “varreção” quando não “barreção”. O que me deixa triste sobre esse amigo oculto é que nunca tenha dito nada sobre o que eu escrevo, se é bonito ou se é feio. Toma a minha sopa, não diz nada sobre ela, mas reclama sempre que o prato está rachado.

ALVES, R. *Mais badulaques*. São Paulo: Parábola, 2004 (fragmento).

De acordo com o texto, após receber a carta de um amigo “que se deu ao trabalho de fazer um xerox da página 827 do dicionário” sinalizando um erro de grafia, o autor reconhece

- a supremacia das formas da língua em relação ao seu conteúdo.
- a necessidade da norma padrão em situações formais de comunicação escrita.
- a obrigatoriedade da norma culta da língua, para a garantia de uma comunicação efetiva.
- a importância da variedade culta da língua, para a preservação da identidade cultural de um povo.
- a necessidade do dicionário como guia de adequação linguística em contextos informais privados.



* A Z U L 2 5 D O M 1 5 *

QUESTÃO 124

Desde dezoito anos que o tal patriotismo lhe absorvia e por ele fizera a tolice de estudar inutilidades. Que lhe importavam os rios? Eram grandes? Pois que fossem... Em que lhe contribuiria para a felicidade saber o nome dos heróis do Brasil? Em nada... O importante é que ele tivesse sido feliz. Foi? Não. Lembrou-se das coisas do tupi, do *folk-lore*, das suas tentativas agrícolas... Restava disso tudo em sua alma uma satisfação? Nenhuma! Nenhuma!

O tupi encontrou a incredulidade geral, o riso, a mofa, o escárnio; e levou-o à loucura. Uma decepção. E a agricultura? Nada. As terras não eram ferazes e ela não era fácil como diziam os livros. Outra decepção. E, quando o seu patriotismo se fizera combatente, o que achara? Decepções. Onde estava a doçura de nossa gente? Pois ele não a viu combater como feras? Pois não a via matar prisioneiros, inúmeros? Outra decepção. A sua vida era uma decepção, uma série, melhor, um encadeamento de decepções.

A pátria que quisera ter era um mito; um fantasma criado por ele no silêncio de seu gabinete.

BARRETO, L. *Triste fim de Policarpo Quaresma*. Disponível em: www.dominiopublico.gov.br. Acesso em: 8 nov. 2011.

O romance *Triste fim de Policarpo Quaresma*, de Lima Barreto, foi publicado em 1911. No fragmento destacado, a reação do personagem aos desdobramentos de suas iniciativas patrióticas evidencia que

- A a dedicação de Policarpo Quaresma ao conhecimento da natureza brasileira levou-o a estudar inutilidades, mas possibilitou-lhe uma visão mais ampla do país.
- B a curiosidade em relação aos heróis da pátria levou-o ao ideal de prosperidade e democracia que o personagem encontra no contexto republicano.
- C a construção de uma pátria a partir de elementos míticos, como a cordialidade do povo, a riqueza do solo e a pureza linguística, conduz à frustração ideológica.
- D a propensão do brasileiro ao riso, ao escárnio, justifica a reação de decepção e desistência de Policarpo Quaresma, que prefere resguardar-se em seu gabinete.
- E a certeza da fertilidade da terra e da produção agrícola incondicional faz parte de um projeto ideológico salvacionista, tal como foi difundido na época do autor.

QUESTÃO 125

A marcha galopante das tecnologias teve por primeiro resultado multiplicar em enormes proporções tanto a massa das notícias que circulam quanto as ocasiões de sermos solicitados por elas. Os profissionais têm tendência a considerar esta inflação como automaticamente favorável ao público, pois dela tiram proveito e tornam-se obcecados pela imagem liberal do grande mercado em que cada um, dotado de luzes por definição iguais, pode fazer sua escolha em toda liberdade. Isso jamais foi realizado e tende a nunca ser. Na verdade, os leitores, ouvintes, telespectadores, mesmo se se abandonam a sua bulimia*, não são realmente nutridos por esta indigesta sopa de informações e sua busca finaliza em frustração. Cada vez mais frequentemente, até, eles ressentem esse bombardeio de riquezas falsas como agressivo e se refugiam na resistência a toda ou qualquer informação.

O verdadeiro problema das sociedades pós-industriais não é a penúria**, mas a abundância. As sociedades modernas têm a sua disposição muito mais do que necessitam em objetos, informações e contatos. Ou, mais exatamente, disso resulta uma desarmonia entre uma oferta, não excessiva, mas incoerente, e uma demanda que, confusamente, exige uma escolha muito mais rápida a absorver. Por isso os órgãos de informação devem escolher, uma vez que o homem contemporâneo apressado, estressado, desorientado busca uma linha diretriz, uma classificação mais clara, um condensado do que é realmente importante.

(*) fome excessiva, desejo descontrolado.

(**) miséria, pobreza.

VOYENNE, B. *Informação hoje*. Lisboa: Armand Colin, 1975 (adaptado).

Com o uso das novas tecnologias, os domínios midiáticos obtiveram um avanço maior e uma presença mais atuante junto ao público, marcada ora pela quase simultaneidade das informações, ora pelo uso abundante de imagens. A relação entre as necessidades da sociedade moderna e a oferta de informação, segundo o texto, é desarmônica, porque

- A o jornalista seleciona as informações mais importantes antes de publicá-las.
- B o ser humano precisa de muito mais conhecimento do que a tecnologia pode dar.
- C o problema da sociedade moderna é a abundância de informações e de liberdade de escolha.
- D a oferta é incoerente com o tempo que as pessoas têm para digerir a quantidade de informação disponível.
- E a utilização dos meios de informação acontece de maneira desorganizada e sem controle efetivo.

QUESTÃO 126**Logia e mitologia**

Meu coração
de mil e novecentos e setenta e dois
já não palpita fagueiro
sabe que há morcegos de pesadas olheiras
que há cabras malignas que há
cardumes de hienas infiltradas
no vão da unha na alma
um porco belicoso de radar
e que sangra e ri
e que sangra e ri
a vida anoitece provisória
centuriões sentinelas
do Oiapoque ao Chuí.

CACASO. *Lero-lero*. Rio de Janeiro: 7Letras; São Paulo: Cosac & Naify, 2002.

O título do poema explora a expressividade de termos que representam o conflito do momento histórico vivido pelo poeta na década de 1970. Nesse contexto, é correto afirmar que

- A** o poeta utiliza uma série de metáforas zoológicas com significado impreciso.
- B** “morcegos”, “cabras” e “hienas” metaforizam as vítimas do regime militar vigente.
- C** o “porco”, animal difícil de domesticar, representa os movimentos de resistência.
- D** o poeta caracteriza o momento de opressão através de alegorias de forte poder de impacto.
- E** “centuriões” e “sentinelas” simbolizam os agentes que garantem a paz social experimentada.

QUESTÃO 127**Desabafo**

Desculpem-me, mas não dá pra fazer uma cronicazinha divertida hoje. Simplesmente não dá. Não tem como disfarçar: esta é uma típica manhã de segunda-feira. A começar pela luz acesa da sala que esqueci ontem à noite. Seis recados para serem respondidos na secretária eletrônica. Recados chatos. Contas para pagar que venceram ontem. Estou nervoso. Estou zangado.

CARNEIRO, J. E. *Veja*, 11 set. 2002 (fragmento).

Nos textos em geral, é comum a manifestação simultânea de várias funções da linguagem, com o predomínio, entretanto, de uma sobre as outras. No fragmento da crônica *Desabafo*, a função da linguagem predominante é a emotiva ou expressiva, pois

- A** o discurso do enunciador tem como foco o próprio código.
- B** a atitude do enunciador se sobrepõe àquilo que está sendo dito.
- C** o interlocutor é o foco do enunciador na construção da mensagem.
- D** o referente é o elemento que se sobressai em detrimento dos demais.
- E** o enunciador tem como objetivo principal a manutenção da comunicação.

QUESTÃO 128**Entrevista com Marcos Bagno**

Pode parecer inacreditável, mas muitas das prescrições da pedagogia tradicional da língua até hoje se baseiam nos usos que os escritores portugueses do século XIX faziam da língua. Se tantas pessoas condenam, por exemplo, o uso do verbo “ter” no lugar de “haver”, como em “hoje tem feijoada”, é simplesmente porque os portugueses, em dado momento da história de sua língua, deixaram de fazer esse uso existencial do verbo “ter”.

No entanto, temos registros escritos da época medieval em que aparecem centenas desses usos. Se nós, brasileiros, assim como os falantes africanos de português, usamos até hoje o verbo “ter” como existencial é porque recebemos esses usos de nossos ex-colonizadores. Não faz sentido imaginar que brasileiros, angolanos e moçambicanos decidiram se juntar para “errar” na mesma coisa. E assim acontece com muitas outras coisas: regências verbais, colocação pronominal, concordâncias nominais e verbais etc. Temos uma língua própria, mas ainda somos obrigados a seguir uma gramática normativa de outra língua diferente. Às vésperas de comemarmos nosso bicentenário de independência, não faz sentido continuar rejeitando o que é nosso para só aceitar o que vem de fora.

Não faz sentido rejeitar a língua de 190 milhões de brasileiros para só considerar certo o que é usado por menos de dez milhões de portugueses. Só na cidade de São Paulo temos mais falantes de português que em toda a Europa!

Informativo Parábola Editorial, s/d.

Na entrevista, o autor defende o uso de formas linguísticas coloquiais e faz uso da norma padrão em toda a extensão do texto. Isso pode ser explicado pelo fato de que ele

- A** adapta o nível de linguagem à situação comunicativa, uma vez que o gênero entrevista requer o uso da norma padrão.
- B** apresenta argumentos carentes de comprovação científica e, por isso, defende um ponto de vista difícil de ser verificado na materialidade do texto.
- C** propõe que o padrão normativo deve ser usado por falantes escolarizados como ele, enquanto a norma coloquial deve ser usada por falantes não escolarizados.
- D** acredita que a língua genuinamente brasileira está em construção, o que o obriga a incorporar em seu cotidiano a gramática normativa do português europeu.
- E** defende que a quantidade de falantes do português brasileiro ainda é insuficiente para acabar com a hegemonia do antigo colonizador.

QUESTÃO 129

O léxico e a cultura

Potencialmente, todas as línguas de todos os tempos podem candidatar-se a expressar qualquer conteúdo. A pesquisa linguística do século XX demonstrou que não há diferença qualitativa entre os idiomas do mundo — ou seja, não há idiomas gramaticalmente mais primitivos ou mais desenvolvidos. Entretanto, para que possa ser efetivamente utilizada, essa igualdade potencial precisa realizar-se na prática histórica do idioma, o que nem sempre acontece. Teoricamente, uma língua com pouca tradição escrita (como as línguas indígenas brasileiras) ou uma língua já extinta (como o latim ou o grego clássicos) podem ser empregadas para falar sobre qualquer assunto, como, digamos, física quântica ou biologia molecular. Na prática, contudo, não é possível, de uma hora para outra, expressar tais conteúdos em camairá ou latim, simplesmente porque não haveria vocabulário próprio para esses conteúdos. É perfeitamente possível desenvolver esse vocabulário específico, seja por meio de empréstimos de outras línguas, seja por meio da criação de novos termos na língua em questão, mas tal tarefa não se realizaria em pouco tempo nem com pouco esforço.

BEARZOTI FILHO, P. *Miniaurélio*: o dicionário da língua portuguesa. Manual do professor. Curitiba: Positivo, 2004 (fragmento).

Estudos contemporâneos mostram que cada língua possui sua própria complexidade e dinâmica de funcionamento. O texto ressalta essa dinâmica, na medida em que enfatiza

- A a inexistência de conteúdo comum a todas as línguas, pois o léxico contempla visão de mundo particular específica de uma cultura.
- B a existência de línguas limitadas por não permitirem ao falante nativo se comunicar perfeitamente a respeito de qualquer conteúdo.
- C a tendência a serem mais restritos o vocabulário e a gramática de línguas indígenas, se comparados com outras línguas de origem europeia.
- D a existência de diferenças vocabulares entre os idiomas, especificidades relacionadas à própria cultura dos falantes de uma comunidade.
- E a atribuição de maior importância sociocultural às línguas contemporâneas, pois permitem que sejam abordadas quaisquer temáticas, sem dificuldades.

QUESTÃO 130

A substituição do haver por ter em construções existenciais, no português do Brasil, corresponde a um dos processos mais característicos da história da língua portuguesa, paralelo ao que já ocorrera em relação à ampliação do domínio de ter na área semântica de “posse”, no final da fase arcaica. Mattos e Silva (2001:136) analisa as vitórias de ter sobre haver e discute a emergência de ter existencial, tomando por base a obra pedagógica de João de Barros. Em textos escritos nos anos quarenta e cinquenta do século XVI, encontram-se evidências, embora raras, tanto de ter “existencial”, não mencionado pelos clássicos estudos de sintaxe histórica, quanto de haver como verbo existencial com concordância, lembrado por Ivo Castro, e anotado como “novidade” no século XVIII por Said Ali.

Como se vê, nada é categórico e um purismo estreito só revela um conhecimento deficiente da língua. Há mais perguntas que respostas. Pode-se conceber uma norma única e prescritiva? É válido confundir o bom uso e a norma com a própria língua e dessa forma fazer uma avaliação crítica e hierarquizante de outros usos e, através deles, dos usuários? Substitui-se uma norma por outra?

CALLOU, D. A propósito de norma, correção e preconceito linguístico: do presente para o passado. In: *Cadernos de Letras da UFF*, n. 36, 2008. Disponível em: www.uff.br. Acesso em: 26 fev. 2012 (adaptado).

Para a autora, a substituição de “haver” por “ter” em diferentes contextos evidencia que

- A o estabelecimento de uma norma prescinde de uma pesquisa histórica.
- B os estudos clássicos de sintaxe histórica enfatizam a variação e a mudança na língua.
- C a avaliação crítica e hierarquizante dos usos da língua fundamenta a definição da norma.
- D a adoção de uma única norma revela uma atitude adequada para os estudos linguísticos.
- E os comportamentos puristas são prejudiciais à compreensão da constituição linguística.

QUESTÃO 131



BARDI, P. M. *Em torno da escultura no Brasil*. São Paulo: Banco Sudameris Brasil, 1989.

Com contornos assimétricos, riqueza de detalhes nas vestes e nas feições, a escultura barroca no Brasil tem forte influência do rococó europeu e está representada aqui por um dos profetas do pátio do Santuário do Bom Jesus de Matosinho, em Congonhas (MG), esculpido em pedra-sabão por Aleijadinho. Profundamente religiosa, sua obra revela

- A liberdade, representando a vida de mineiros à procura da salvação.
- B credibilidade, atendendo a encomendas dos nobres de Minas Gerais.
- C simplicidade, demonstrando compromisso com a contemplação do divino.
- D personalidade, modelando uma imagem sacra com feições populares.
- E singularidade, esculpindo personalidades do reinado nas obras divinas.

QUESTÃO 132

Lugar de mulher também é na oficina. Pelo menos nas oficinas dos cursos da área automotiva fornecidos pela Prefeitura, a presença feminina tem aumentado ano a ano. De cinco mulheres matriculadas em 2005, a quantidade saltou para 79 alunas inscritas neste ano nos cursos de mecânica automotiva, eletricidade veicular, injeção eletrônica, repintura e funilaria. A presença feminina nos cursos automotivos da Prefeitura — que são gratuitos — cresceu 1 480% nos últimos sete anos e tem aumentado ano a ano.

Disponível em: www.correiodeuberlandia.com.br. Acesso em: 27 fev. 2012 (adaptado).

Na produção de um texto, são feitas escolhas referentes a sua estrutura, que possibilitam inferir o objetivo do autor. Nesse sentido, no trecho apresentado, o enunciado “Lugar de mulher também é na oficina” corrobora o objetivo textual de

- A demonstrar que a situação das mulheres mudou na sociedade contemporânea.
- B defender a participação da mulher na sociedade atual.
- C comparar esse enunciado com outro: “lugar de mulher é na cozinha”.
- D criticar a presença de mulheres nas oficinas dos cursos da área automotiva.
- E distorcer o sentido da frase “lugar de mulher é na cozinha”.

QUESTÃO 133



GARANTA SUA SACOLA RETORNÁVEL!
SEM SUA AJUDA O MUNDO
É INSUSTENTÁVEL

Até 11/03, a cada
R\$ 70,00 em compras,
apresente seu cupom fiscal e
garanta uma sacola
retornável.*
Local: Corredor principal.

Disponível em: www.portaldapropaganda.com.br. Acesso em: 1 mar. 2012.

A publicidade, de uma forma geral, alia elementos verbais e imagéticos na constituição de seus textos. Nessa peça publicitária, cujo tema é a sustentabilidade, o autor procura convencer o leitor a

- A assumir uma atitude reflexiva diante dos fenômenos naturais.
- B evitar o consumo excessivo de produtos reutilizáveis.
- C aderir à onda sustentável, evitando o consumo excessivo.
- D abraçar a campanha, desenvolvendo projetos sustentáveis.
- E consumir produtos de modo responsável e ecológico.

QUESTÃO 134

Aquele bêbado

— Juro nunca mais beber — e fez o sinal da cruz com os indicadores. Acrescentou: — Álcool.

O mais ele achou que podia beber. Bebia paisagens, músicas de Tom Jobim, versos de Mário Quintana. Tomou um pileque de Segall. Nos fins de semana, embebedava-se de Índia Reclinada, de Celso Antônio.

— Curou-se 100% do vício — comentavam os amigos.

Só ele sabia que andava mais bêbado que um gambá. Morreu de etilismo abstrato, no meio de uma carraspana de pôr do sol no Leblon, e seu féretro ostentava inúmeras coroas de ex-alcoólatras anônimos.

ANDRADE, C. D. *Contos plausíveis*. Rio de Janeiro: Record, 1991.

A *causa mortis* do personagem, expressa no último parágrafo, adquire um efeito irônico no texto porque, ao longo da narrativa, ocorre uma

- A metaforização do sentido literal do verbo “beber”.
- B aproximação exagerada da estética abstracionista.
- C apresentação gradativa da coloquialidade da linguagem.
- D exploração hiperbólica da expressão “inúmeras coroas”.
- E citação aleatória de nomes de diferentes artistas.

QUESTÃO 135

O trovador

Sentimentos em mim do asperamente
dos homens das primeiras eras...

As primaveras do sarcasmo
intermitentemente no meu coração arlequinal...
Intermitentemente...

Outras vezes é um doente, um frio
na minha alma doente como um longo som redondo...

Cantabona! Cantabona!

Dlorom...

Sou um tupi tangendo um alaúde!

ANDRADE, M. In: MANFIO, D. Z. (Org.) *Poesias completas de Mário de Andrade*. Belo Horizonte: Itatiaia, 2005.

Cara ao Modernismo, a questão da identidade nacional é recorrente na prosa e na poesia de Mário de Andrade. Em *O trovador*, esse aspecto é

- A abordado subliminarmente, por meio de expressões como “coração arlequinal” que, evocando o carnaval, remete à brasilidade.
- B verificado já no título, que remete aos repentistas nordestinos, estudados por Mário de Andrade em suas viagens e pesquisas folclóricas.
- C lamentado pelo eu lírico, tanto no uso de expressões como “Sentimentos em mim do asperamente” (v. 1), “frio” (v. 6), “alma doente” (v. 7), como pelo som triste do alaúde “Dlorom” (v. 9).
- D problematizado na oposição tupi (selvagem) x alaúde (civilizado), apontando a síntese nacional que seria proposta no *Manifesto Antropófago*, de Oswald de Andrade.
- E exaltado pelo eu lírico, que evoca os “sentimentos dos homens das primeiras eras” para mostrar o orgulho brasileiro por suas raízes indígenas.

MATEMÁTICA E SUAS TECNOLOGIAS

Questões de 136 a 180

QUESTÃO 136

O esporte de alta competição da atualidade produziu uma questão ainda sem resposta: Qual é o limite do corpo humano? O maratonista original, o grego da lenda, morreu de fadiga por ter corrido 42 quilômetros. O americano Dean Karnazes, cruzando sozinho as planícies da Califórnia, conseguiu correr dez vezes mais em 75 horas.

Um professor de Educação Física, ao discutir com a turma o texto sobre a capacidade do maratonista americano, desenhou na lousa uma pista reta de 60 centímetros, que representaria o percurso referido.

Disponível em: <http://veja.abril.com.br>. Acesso em: 25 jun. 2011 (adaptado).

Se o percurso de Dean Karnazes fosse também em uma pista reta, qual seria a escala entre a pista feita pelo professor e a percorrida pelo atleta?

- A 1:700
- B 1:7 000
- C 1:70 000
- D 1:700 000
- E 1:7 000 000

QUESTÃO 137

O losango representado na Figura 1 foi formado pela união dos centros das quatro circunferências tangentes, de raios de mesma medida.




Figura 1

Dobrando-se o raio de duas das circunferências centradas em vértices opostos do losango e ainda mantendo-se a configuração das tangências, obtém-se uma situação conforme ilustrada pela Figura 2.




Figura 2

O perímetro do losango da Figura 2, quando comparado ao perímetro do losango da Figura 1, teve um aumento de

- A 300%.
- B 200%.
- C 150%.
- D 100%.
- E 50%.

QUESTÃO 138

José, Carlos e Paulo devem transportar em suas bicicletas uma certa quantidade de laranjas. Decidiram dividir o trajeto a ser percorrido em duas partes, sendo que ao final da primeira parte eles redistribuiriam a quantidade de laranjas que cada um carregava dependendo do cansaço de cada um. Na primeira parte do trajeto José, Carlos e Paulo dividiram as laranjas na proporção 6 : 5 : 4, respectivamente. Na segunda parte do trajeto José, Carlos e Paulo dividiram as laranjas na proporção 4 : 4 : 2, respectivamente.

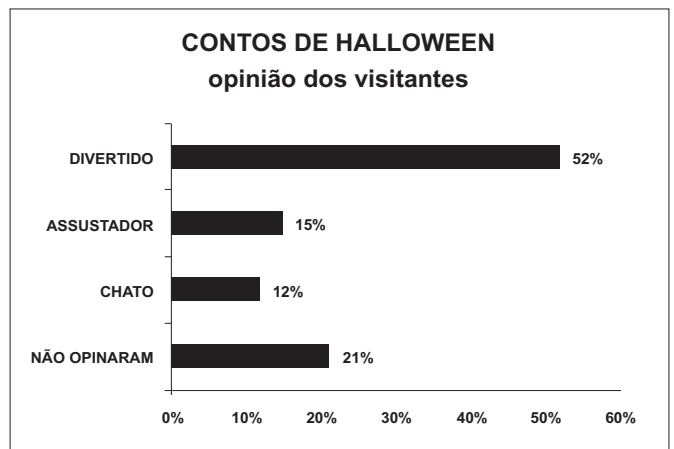
Sabendo-se que um deles levou 50 laranjas a mais no segundo trajeto, qual a quantidade de laranjas que José, Carlos e Paulo, nessa ordem, transportaram na segunda parte do trajeto?

- A 600, 550, 350
- B 300, 300, 150
- C 300, 250, 200
- D 200, 200, 100
- E 100, 100, 50

QUESTÃO 139

Em um *blog* de variedades, músicas, mantras e informações diversas, foram postados “Contos de Halloween”. Após a leitura, os visitantes poderiam opinar, assinalando suas reações em: “Divertido”, “Assustador” ou “Chato”. Ao final de uma semana, o *blog* registrou que 500 visitantes distintos acessaram esta postagem.

O gráfico a seguir apresenta o resultado da enquete.



O administrador do *blog* irá sortear um livro entre os visitantes que opinaram na postagem “Contos de Halloween”.

Sabendo que nenhum visitante votou mais de uma vez, a probabilidade de uma pessoa escolhida ao acaso entre as que opinaram ter assinalado que o conto “Contos de Halloween” é “Chato” é mais aproximada por

- A 0,09.
- B 0,12.
- C 0,14.
- D 0,15.
- E 0,18.

QUESTÃO 140

Arthur deseja comprar um terreno de Cléber, que lhe oferece as seguintes possibilidades de pagamento:

- Opção 1: Pagar à vista, por R\$ 55 000,00;
- Opção 2: Pagar a prazo, dando uma entrada de R\$ 30 000,00, e mais uma prestação de R\$ 26 000,00 para dali a 6 meses.
- Opção 3: Pagar a prazo, dando uma entrada de R\$ 20 000,00, mais uma prestação de R\$ 20 000,00, para dali a 6 meses e outra de R\$ 18 000,00 para dali a 12 meses da data da compra.
- Opção 4: Pagar a prazo dando uma entrada de R\$ 15 000,00 e o restante em 1 ano da data da compra, pagando R\$ 39 000,00.
- Opção 5: pagar a prazo, dali a um ano, o valor de R\$ 60 000,00.


Arthur tem o dinheiro para pagar à vista, mas avalia se não seria melhor aplicar o dinheiro do valor à vista (ou até um valor menor) em um investimento, com rentabilidade de 10% ao semestre, resgatando os valores à medida que as prestações da opção escolhida fossem vencendo.

Após avaliar a situação do ponto de vista financeiro e das condições apresentadas, Arthur concluiu que era mais vantajoso financeiramente escolher a opção

- A** 1.
- B** 2.
- C** 3.
- D** 4.
- E** 5.

QUESTÃO 141

Um forro retangular de tecido traz em sua etiqueta a informação de que encolherá após a primeira lavagem mantendo, entretanto, seu formato. A figura a seguir mostra as medidas originais do forro e o tamanho do encolhimento (x) no comprimento e (y) na largura. A expressão algébrica que representa a área do forro após ser lavado é $(5 - x)(3 - y)$.



Nestas condições, a área perdida do forro, após a primeira lavagem, será expressa por

- A** $2xy$
- B** $15 - 3x$
- C** $15 - 5y$
- D** $-5y - 3x$
- E** $5y + 3x - xy$

QUESTÃO 142

A capacidade mínima, em BTU/h, de um aparelho de ar-condicionado, para ambientes sem exposição ao sol, pode ser determinada da seguinte forma:

- 600 BTU/h por m^2 , considerando-se até duas pessoas no ambiente;
- para cada pessoa adicional nesse ambiente, acrescentar 600 BTU/h;
- acrescentar mais 600 BTU/h para cada equipamento eletroeletrônico em funcionamento no ambiente.

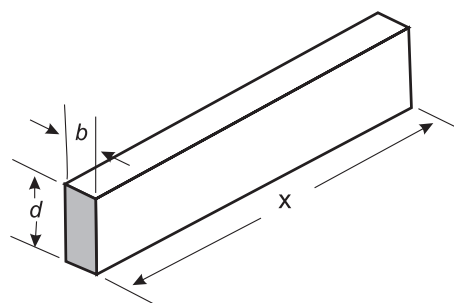
Será instalado um aparelho de ar-condicionado em uma sala, sem exposição ao sol, de dimensões 4 m x 5 m, em que permaneçam quatro pessoas e possua um aparelho de televisão em funcionamento.

A capacidade mínima, em BTU/h, desse aparelho de ar-condicionado deve ser

- A** 12 000.
- B** 12 600.
- C** 13 200.
- D** 13 800.
- E** 15 000.

QUESTÃO 143

A resistência mecânica S de uma viga de madeira, em forma de um paralelepípedo retângulo, é diretamente proporcional à sua largura (b) e ao quadrado de sua altura (d) e inversamente proporcional ao quadrado da distância entre os suportes da viga, que coincide com o seu comprimento (x), conforme ilustra a figura. A constante de proporcionalidade k é chamada de resistência da viga.



BUSHAW, D. et al. *Aplicações da matemática escolar*. São Paulo: Atual, 1997.

A expressão que traduz a resistência S dessa viga de madeira é

- A** $S = \frac{k \cdot b \cdot d^2}{x^2}$
- B** $S = \frac{k \cdot b \cdot d}{x^2}$
- C** $S = \frac{k \cdot b \cdot d^2}{x}$
- D** $S = \frac{k \cdot b^2 \cdot d}{x}$
- E** $S = \frac{k \cdot b \cdot 2d}{2x}$

QUESTÃO 144

O diretor de uma escola convidou os 280 alunos de terceiro ano a participarem de uma brincadeira. Suponha que existem 5 objetos e 6 personagens numa casa de 9 cômodos; um dos personagens esconde um dos objetos em um dos cômodos da casa. O objetivo da brincadeira é adivinhar qual objeto foi escondido por qual personagem e em qual cômodo da casa o objeto foi escondido.

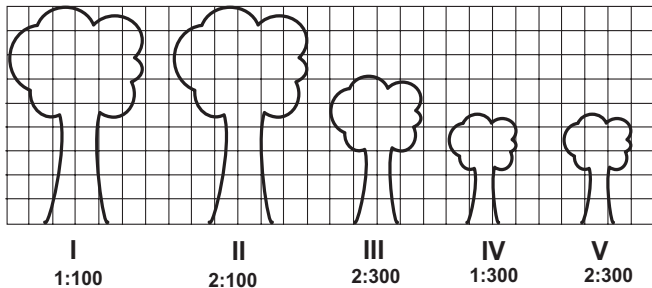
Todos os alunos decidiram participar. A cada vez um aluno é sorteado e dá a sua resposta. As respostas devem ser sempre distintas das anteriores, e um mesmo aluno não pode ser sorteado mais de uma vez. Se a resposta do aluno estiver correta, ele é declarado vencedor e a brincadeira é encerrada.

O diretor sabe que algum aluno acertará a resposta porque há

- A 10 alunos a mais do que possíveis respostas distintas.
- B 20 alunos a mais do que possíveis respostas distintas.
- C 119 alunos a mais do que possíveis respostas distintas.
- D 260 alunos a mais do que possíveis respostas distintas.
- E 270 alunos a mais do que possíveis respostas distintas.

QUESTÃO 145

Um biólogo mediu a altura de cinco árvores distintas e representou-as em uma mesma malha quadriculada, utilizando escalas diferentes, conforme indicações na figura a seguir.



Qual é a árvore que apresenta a maior altura real?

- A I
- B II
- C III
- D IV
- E V

QUESTÃO 146

Em um jogo há duas urnas com 10 bolas de mesmo tamanho em cada urna. A tabela a seguir indica as quantidades de bolas de cada cor em cada urna.

Cor	Urna 1	Urna 2
Amarela	4	0
Azul	3	1
Branca	2	2
Verde	1	3
Vermelha	0	4

Uma jogada consiste em:

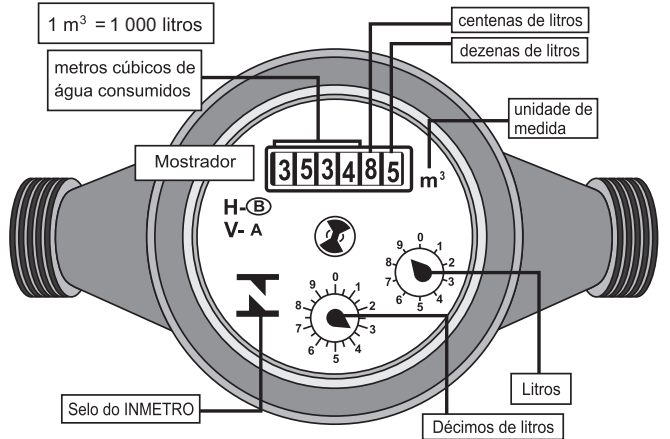
- 1º) o jogador apresenta um palpite sobre a cor da bola que será retirada por ele da urna 2;
- 2º) ele retira, aleatoriamente, uma bola da urna 1 e a coloca na urna 2, misturando-a com as que lá estão;
- 3º) em seguida ele retira, também aleatoriamente, uma bola da urna 2;
- 4º) se a cor da última bola retirada for a mesma do palpite inicial, ele ganha o jogo.

Qual cor deve ser escolhida pelo jogador para que ele tenha a maior probabilidade de ganhar?

- A Azul.
- B Amarela.
- C Branca.
- D Verde.
- E Vermelha.

QUESTÃO 147

Os hidrômetros são marcadores de consumo de água em residências e estabelecimentos comerciais. Existem vários modelos de mostradores de hidrômetros, sendo que alguns deles possuem uma combinação de um mostrador e dois relógios de ponteiro. O número formado pelos quatro primeiros algarismos do mostrador fornece o consumo em m³, e os dois últimos algarismos representam, respectivamente, as centenas e dezenas de litros de água consumidos. Um dos relógios de ponteiros indica a quantidade em litros, e o outro em décimos de litros, conforme ilustrados na figura a seguir.



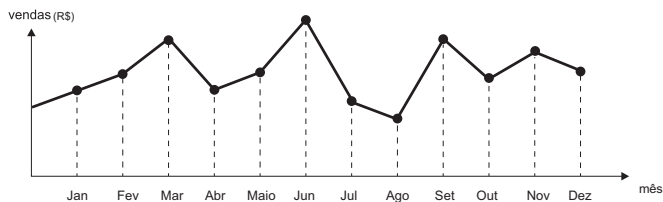
Disponível em: www.aguasdearacoiaba.com.br (adaptado).

Considerando as informações indicadas na figura, o consumo total de água registrado nesse hidrômetro, em litros, é igual a

- A 3 534,85.
- B 3 544,20.
- C 3 534 850,00.
- D 3 534 859,35.
- E 3 534 850,39.

QUESTÃO 148

O dono de uma farmácia resolveu colocar à vista do público o gráfico mostrado a seguir, que apresenta a evolução do total de vendas (em Reais) de certo medicamento ao longo do ano de 2011.

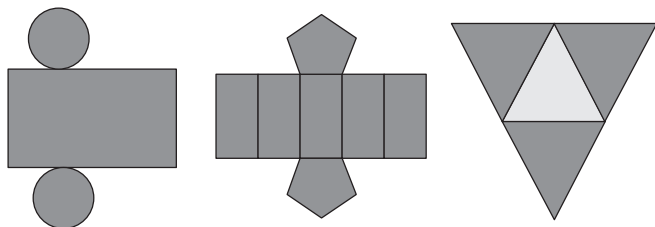


De acordo com o gráfico, os meses em que ocorreram, respectivamente, a maior e a menor venda absolutas em 2011 foram

- A março e abril.
- B março e agosto.
- C agosto e setembro.
- D junho e setembro.
- E junho e agosto.

QUESTÃO 149

Maria quer inovar em sua loja de embalagens e decidiu vender caixas com diferentes formatos. Nas imagens apresentadas estão as planificações dessas caixas.



Quais serão os sólidos geométricos que Maria obterá a partir dessas planificações?

- A Cilindro, prisma de base pentagonal e pirâmide.
- B Cone, prisma de base pentagonal e pirâmide.
- C Cone, tronco de pirâmide e pirâmide.
- D Cilindro, tronco de pirâmide e prisma.
- E Cilindro, prisma e tronco de cone.

QUESTÃO 150

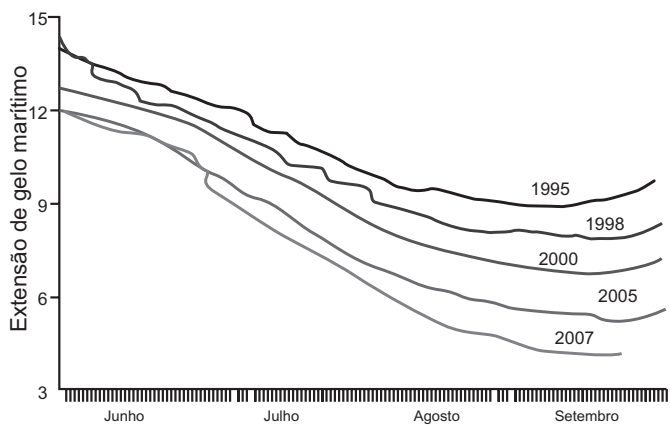
Jogar baralho é uma atividade que estimula o raciocínio. Um jogo tradicional é a Paciência, que utiliza 52 cartas. Inicialmente são formadas sete colunas com as cartas. A primeira coluna tem uma carta, a segunda tem duas cartas, a terceira tem três cartas, a quarta tem quatro cartas, e assim sucessivamente até a sétima coluna, a qual tem sete cartas, e o que sobra forma o monte, que são as cartas não utilizadas nas colunas.

A quantidade de cartas que forma o monte é

- A 21.
- B 24.
- C 26.
- D 28.
- E 31.

QUESTÃO 151

O gráfico mostra a variação da extensão média de gelo marítimo, em milhões de quilômetros quadrados, comparando dados dos anos 1995, 1998, 2000, 2005 e 2007. Os dados correspondem aos meses de junho a setembro. O Ártico começa a recobrar o gelo quando termina o verão, em meados de setembro. O gelo do mar atua como o sistema de resfriamento da Terra, refletindo quase toda a luz solar de volta ao espaço. Águas de oceanos escuros, por sua vez, absorvem a luz solar e reforçam o aquecimento do Ártico, ocasionando derretimento crescente do gelo.



Disponível em: <http://sustentabilidade.allianz.com.br>. Acesso em: fev. 2012 (adaptado).

Com base no gráfico e nas informações do texto, é possível inferir que houve maior aquecimento global em

- A 1995.
- B 1998.
- C 2000.
- D 2005.
- E 2007.



QUESTÃO 152

Em exposições de artes plásticas, é usual que estátuas sejam expostas sobre plataformas giratórias. Uma medida de segurança é que a base da escultura esteja integralmente apoiada sobre a plataforma. Para que se providencie o equipamento adequado, no caso de uma base quadrada que será fixada sobre uma plataforma circular, o auxiliar técnico do evento deve estimar a medida R do raio adequado para a plataforma em termos da medida L do lado da base da estátua.

Qual relação entre R e L o auxiliar técnico deverá apresentar de modo que a exigência de segurança seja cumprida?

- A $R \geq L / \sqrt{2}$
- B $R \geq 2L / \pi$
- C $R \geq L / \sqrt{\pi}$
- D $R \geq L / 2$
- E $R \geq L / (2\sqrt{2})$

QUESTÃO 153

O globo da morte é uma atração muito usada em circos. Ele consiste em uma espécie de jaula em forma de uma superfície esférica feita de aço, onde motoqueiros andam com suas motos por dentro. A seguir, tem-se, na Figura 1, uma foto de um globo da morte e, na Figura 2, uma esfera que ilustra um globo da morte.




Figura 1

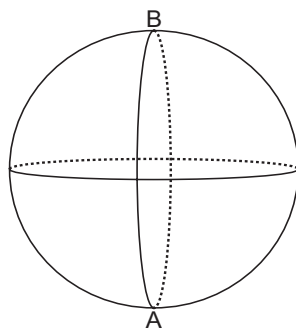
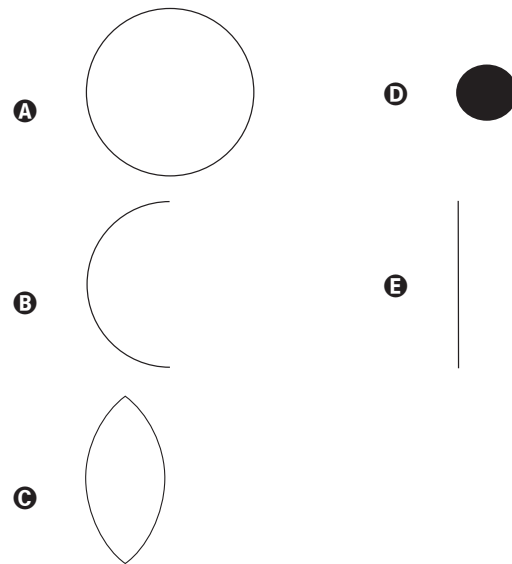


Figura 2

Na Figura 2, o ponto A está no plano do chão onde está colocado o globo da morte e o segmento AB passa pelo centro da esfera e é perpendicular ao plano do chão. Suponha que há um foco de luz direcionado para o chão colocado no ponto B e que um motoqueiro faça um trajeto dentro da esfera, percorrendo uma circunferência que passa pelos pontos A e B.

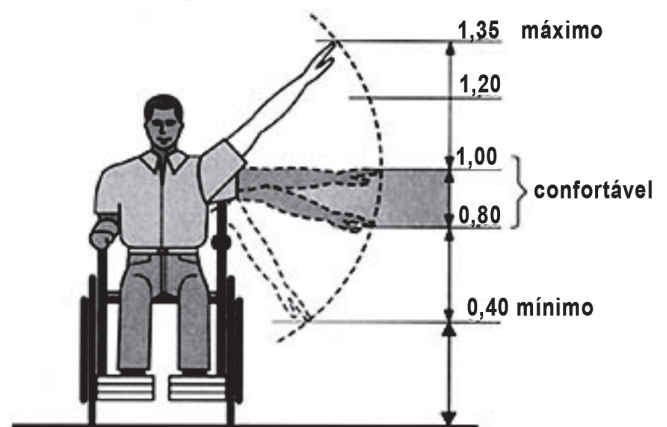
Disponível em: www.baixaki.com.br. Acesso em: 29 fev. 2012.

A imagem do trajeto feito pelo motoqueiro no plano do chão é melhor representada por



QUESTÃO 154

Num projeto da parte elétrica de um edifício residencial a ser construído, consta que as tomadas deverão ser colocadas a 0,20 m acima do piso, enquanto os interruptores de luz deverão ser colocados a 1,47 m acima do piso. Um cadeirante, potencial comprador de um apartamento desse edifício, ao ver tais medidas, alerta para o fato de que elas não contemplarão suas necessidades. Os referenciais de alturas (em metros) para atividades que não exigem o uso de força são mostrados na figura seguinte.



Uma proposta substitutiva, relativa às alturas de tomadas e interruptores, respectivamente, que atenderá àquele potencial comprador é

- A 0,20 m e 1,45 m.
- B 0,20 m e 1,40 m.
- C 0,25 m e 1,35 m.
- D 0,25 m e 1,30 m.
- E 0,45 m e 1,20 m.

QUESTÃO 155

Uma pesquisa realizada por estudantes da Faculdade de Estatística mostra, em horas por dia, como os jovens entre 12 e 18 anos gastam seu tempo, tanto durante a semana (de segunda-feira a sexta-feira), como no fim de semana (sábado e domingo). A seguinte tabela ilustra os resultados da pesquisa.

Rotina Juvenil	Durante a semana	No fim de semana
Assistir à televisão	3	3
Atividades domésticas	1	1
Atividades escolares	5	1
Atividades de lazer	2	4
Descanso, higiene e alimentação	10	12
Outras atividades	3	3

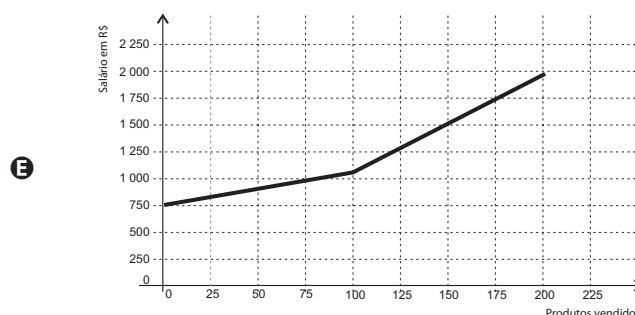
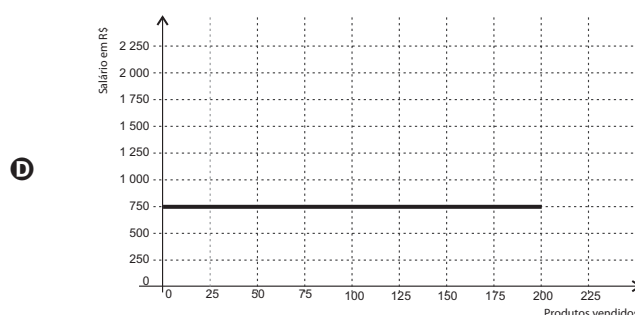
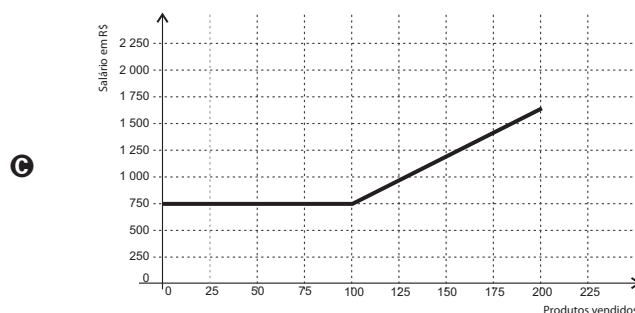
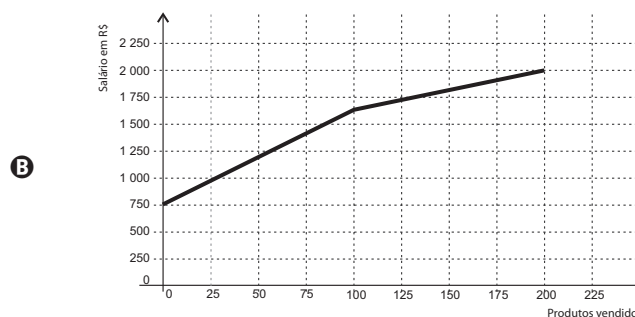
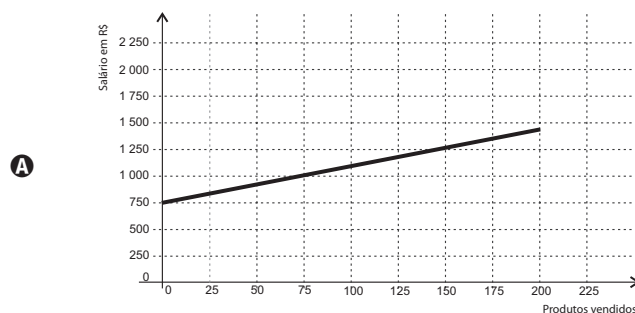
De acordo com esta pesquisa, quantas horas de seu tempo gasta um jovem entre 12 e 18 anos, na semana inteira (de segunda-feira a domingo), nas atividades escolares?

- A** 20
- B** 21
- C** 24
- D** 25
- E** 27

QUESTÃO 156

Certo vendedor tem seu salário mensal calculado da seguinte maneira: ele ganha um valor fixo de R\$ 750,00, mais uma comissão de R\$ 3,00 para cada produto vendido. Caso ele venda mais de 100 produtos, sua comissão passa a ser de R\$ 9,00 para cada produto vendido, a partir do 101º produto vendido.

Com essas informações, o gráfico que melhor representa a relação entre salário e o número de produtos vendidos é



QUESTÃO 157

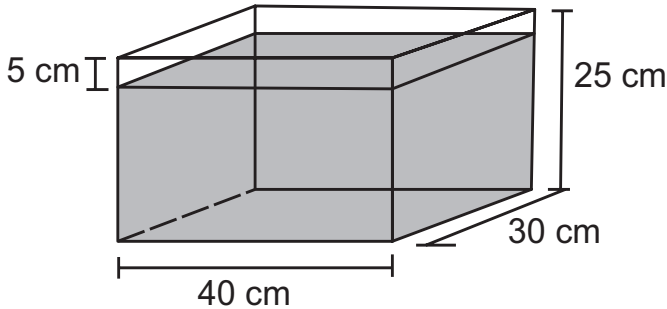
Um maquinista de trem ganha R\$ 100,00 por viagem e só pode viajar a cada 4 dias. Ele ganha somente se fizer a viagem e sabe que estará de férias de 1º a 10 de junho, quando não poderá viajar. Sua primeira viagem ocorreu no dia primeiro de janeiro. Considere que o ano tem 365 dias.

Se o maquinista quiser ganhar o máximo possível, quantas viagens precisará fazer?

- A 37
- B 51
- C 88
- D 89
- E 91

QUESTÃO 158

Alguns objetos, durante a sua fabricação, necessitam passar por um processo de resfriamento. Para que isso ocorra, uma fábrica utiliza um tanque de resfriamento, como mostrado na figura.

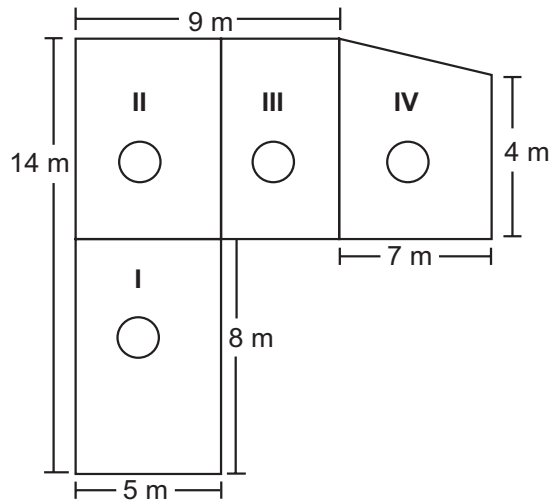


O que aconteceria com o nível da água se colocássemos no tanque um objeto cujo volume fosse de 2 400 cm³?

- A O nível subiria 0,2 cm, fazendo a água ficar com 20,2 cm de altura.
- B O nível subiria 1 cm, fazendo a água ficar com 21 cm de altura.
- C O nível subiria 2 cm, fazendo a água ficar com 22 cm de altura.
- D O nível subiria 8 cm, fazendo a água transbordar.
- E O nível subiria 20 cm, fazendo a água transbordar.

QUESTÃO 159

Jorge quer instalar aquecedores no seu salão de beleza para melhorar o conforto dos seus clientes no inverno. Ele estuda a compra de unidades de dois tipos de aquecedores: modelo A, que consome 600 g/h (gramas por hora) de gás propano e cobre 35 m² de área, ou modelo B, que consome 750 g/h de gás propano e cobre 45 m² de área. O fabricante indica que o aquecedor deve ser instalado em um ambiente com área menor do que a da sua cobertura. Jorge vai instalar uma unidade por ambiente e quer gastar o mínimo possível com gás. A área do salão que deve ser climatizada encontra-se na planta seguinte (ambientes representados por três retângulos e um trapézio).

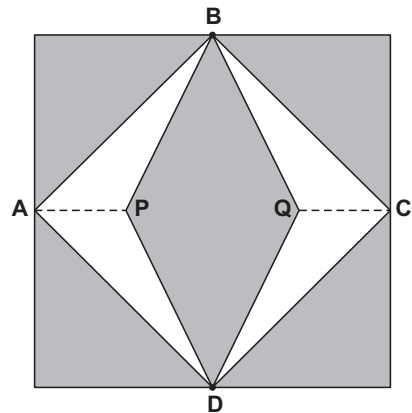


Avaliando-se todas as informações, serão necessários

- A quatro unidades do tipo A e nenhuma unidade do tipo B.
- B três unidades do tipo A e uma unidade do tipo B.
- C duas unidades do tipo A e duas unidades do tipo B.
- D uma unidade do tipo A e três unidades do tipo B.
- E nenhuma unidade do tipo A e quatro unidades do tipo B.

QUESTÃO 160

Para decorar a fachada de um edifício, um arquiteto projetou a colocação de vitrais compostos de quadrados de lado medindo 1 m, conforme a figura a seguir.



Nesta figura, os pontos A, B, C e D são pontos médios dos lados do quadrado e os segmentos AP e QC medem 1/4 da medida do lado do quadrado. Para confeccionar um vitral, são usados dois tipos de materiais: um para a parte sombreada da figura, que custa R\$ 30,00 o m², e outro para a parte mais clara (regiões ABPDA e BCDQB), que custa R\$ 50,00 o m².

De acordo com esses dados, qual é o custo dos materiais usados na fabricação de um vitral?

- A R\$ 22,50
- B R\$ 35,00
- C R\$ 40,00
- D R\$ 42,50
- E R\$ 45,00

QUESTÃO 161

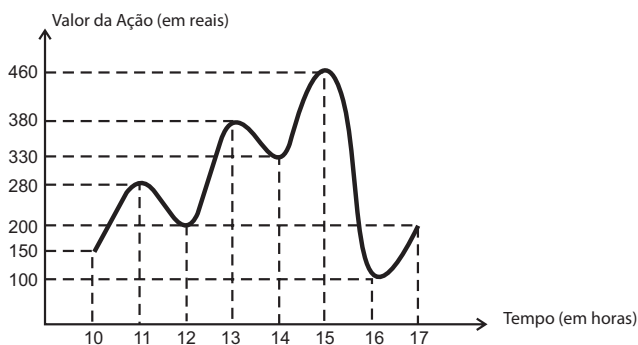
João decidiu contratar os serviços de uma empresa por telefone através do SAC (Serviço de Atendimento ao Consumidor). O atendente ditou para João o número de protocolo de atendimento da ligação e pediu que ele anotasse. Entretanto, João não entendeu um dos algarismos ditados pelo atendente e anotou o número 1 3 _ 9 8 2 0 7, sendo que o espaço vazio é o do algarismo que João não entendeu.

De acordo com essas informações, a posição ocupada pelo algarismo que falta no número de protocolo é a de

- A centena.
- B dezena de milhar.
- C centena de milhar.
- D milhão.
- E centena de milhão.

QUESTÃO 162

O gráfico fornece os valores das ações da empresa XPN, no período das 10 às 17 horas, num dia em que elas oscilaram acentuadamente em curtos intervalos de tempo.



Neste dia, cinco investidores compraram e venderam o mesmo volume de ações, porém em horários diferentes, de acordo com a seguinte tabela.

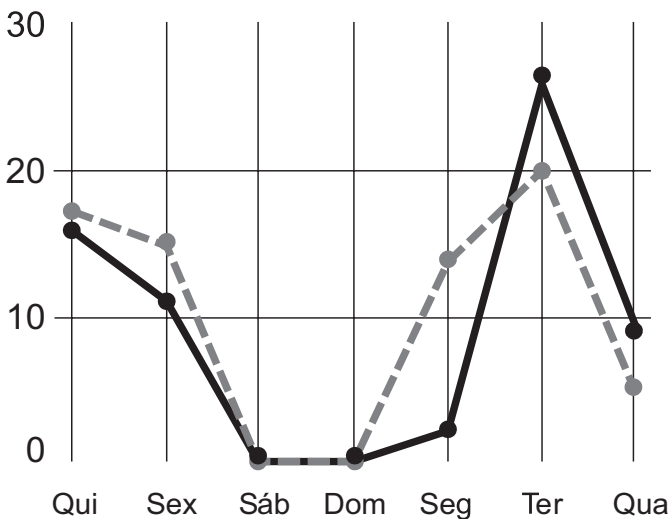
Investidor	Hora da Compra	Hora da Venda
1	10:00	15:00
2	10:00	17:00
3	13:00	15:00
4	15:00	16:00
5	16:00	17:00

Com relação ao capital adquirido na compra e venda das ações, qual investidor fez o melhor negócio?

- A 1
- B 2
- C 3
- D 4
- E 5

QUESTÃO 163

A figura a seguir apresenta dois gráficos com informações sobre as reclamações diárias recebidas e resolvidas pelo Setor de Atendimento ao Cliente (SAC) de uma empresa, em uma dada semana. O gráfico de linha tracejada informa o número de reclamações recebidas no dia, o de linha contínua é o número de reclamações resolvidas no dia. As reclamações podem ser resolvidas no mesmo dia ou demorarem mais de um dia para serem resolvidas.



O gerente de atendimento deseja identificar os dias da semana em que o nível de eficiência pode ser considerado muito bom, ou seja, os dias em que o número de reclamações resolvidas excede o número de reclamações recebidas.

Disponível em: <http://blog.bibliotecaunix.org>. Acesso em: 21 jan. 2012 (adaptado).

O gerente de atendimento pôde concluir, baseado no conceito de eficiência utilizado na empresa e nas informações do gráfico, que o nível de eficiência foi muito bom na

- A segunda e na terça-feira.
- B terça e na quarta-feira.
- C terça e na quinta-feira.
- D quinta-feira, no sábado e no domingo.
- E segunda, na quinta e na sexta-feira.

QUESTÃO 164

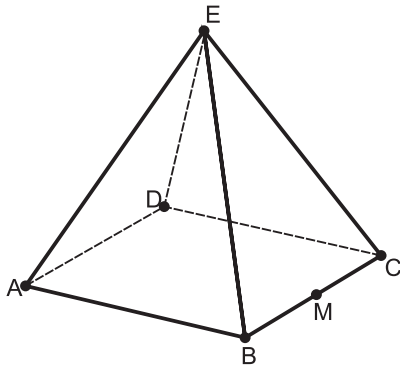
Uma mãe recorreu à bula para verificar a dosagem de um remédio que precisava dar a seu filho. Na bula, recomendava-se a seguinte dosagem: 5 gotas para cada 2 kg de massa corporal a cada 8 horas.

Se a mãe ministrou corretamente 30 gotas do remédio a seu filho a cada 8 horas, então a massa corporal dele é de

- A 12 kg.
- B 16 kg.
- C 24 kg.
- D 36 kg.
- E 75 kg.

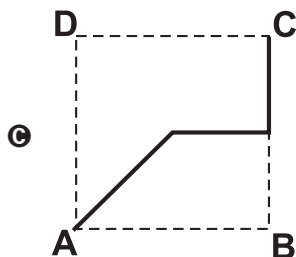
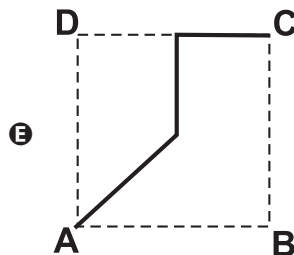
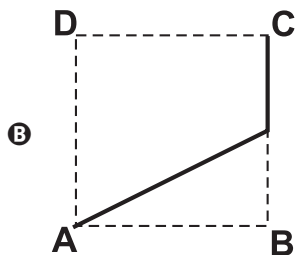
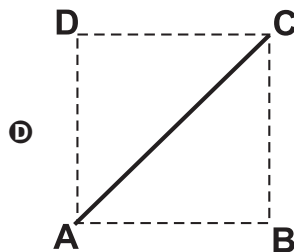
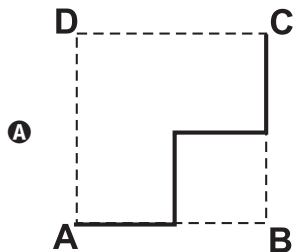
QUESTÃO 165

João propôs um desafio a Bruno, seu colega de classe: ele iria descrever um deslocamento pela pirâmide a seguir e Bruno deveria desenhar a projeção desse deslocamento no plano da base da pirâmide.



O deslocamento descrito por João foi: mova-se pela pirâmide, sempre em linha reta, do ponto A ao ponto E, a seguir do ponto E ao ponto M, e depois de M a C.

O desenho que Bruno deve fazer é



QUESTÃO 166

As curvas de oferta e de demanda de um produto representam, respectivamente, as quantidades que vendedores e consumidores estão dispostos a comercializar em função do preço do produto. Em alguns casos, essas curvas podem ser representadas por retas. Suponha que as quantidades de oferta e de demanda de um produto sejam, respectivamente, representadas pelas equações:

$$Q_o = -20 + 4P$$

$$Q_D = 46 - 2P$$

em que Q_o é quantidade de oferta, Q_D é a quantidade de demanda e P é o preço do produto.

A partir dessas equações, de oferta e de demanda, os economistas encontram o preço de equilíbrio de mercado, ou seja, quando Q_o e Q_D se igualam.

Para a situação descrita, qual o valor do preço de equilíbrio?

- A** 5
- B** 11
- C** 13
- D** 23
- E** 33

QUESTÃO 167

Nos *shopping centers* costumam existir parques com vários brinquedos e jogos. Os usuários colocam créditos em um cartão, que são descontados por cada período de tempo de uso dos jogos. Dependendo da pontuação da criança no jogo, ela recebe um certo número de tíquetes para trocar por produtos nas lojas dos parques. Suponha que o período de uso de um brinquedo em certo *shopping* custa R\$ 3,00 e que uma bicicleta custa 9 200 tíquetes.

Para uma criança que recebe 20 tíquetes por período de tempo que joga, o valor, em reais, gasto com créditos para obter a quantidade de tíquetes para trocar pela bicicleta é

- A** 153.
- B** 460.
- C** 1 218.
- D** 1 380.
- E** 3 066.

QUESTÃO 168

Dentre outros objetos de pesquisa, a Alometria estuda a relação entre medidas de diferentes partes do corpo humano. Por exemplo, segundo a Alometria, a área A da superfície corporal de uma pessoa relaciona-se com

a sua massa m pela fórmula $A = k \cdot m^{\frac{2}{3}}$, em que k é uma constante positiva.

Se no período que vai da infância até a maioridade de um indivíduo sua massa é multiplicada por 8, por quanto será multiplicada a área da superfície corporal?

- A $\sqrt[3]{16}$
- B 4
- C $\sqrt{24}$
- D 8
- E 64

QUESTÃO 169

Um aluno registrou as notas bimestrais de algumas de suas disciplinas numa tabela. Ele observou que as entradas numéricas da tabela formavam uma matriz 4×4 , e que poderia calcular as médias anuais dessas disciplinas usando produto de matrizes. Todas as provas possuíam o mesmo peso, e a tabela que ele conseguiu é mostrada a seguir.

	1º bimestre	2º bimestre	3º bimestre	4º bimestre
Matemática	5,9	6,2	4,5	5,5
Português	6,6	7,1	6,5	8,4
Geografia	8,6	6,8	7,8	9,0
História	6,2	5,6	5,9	7,7

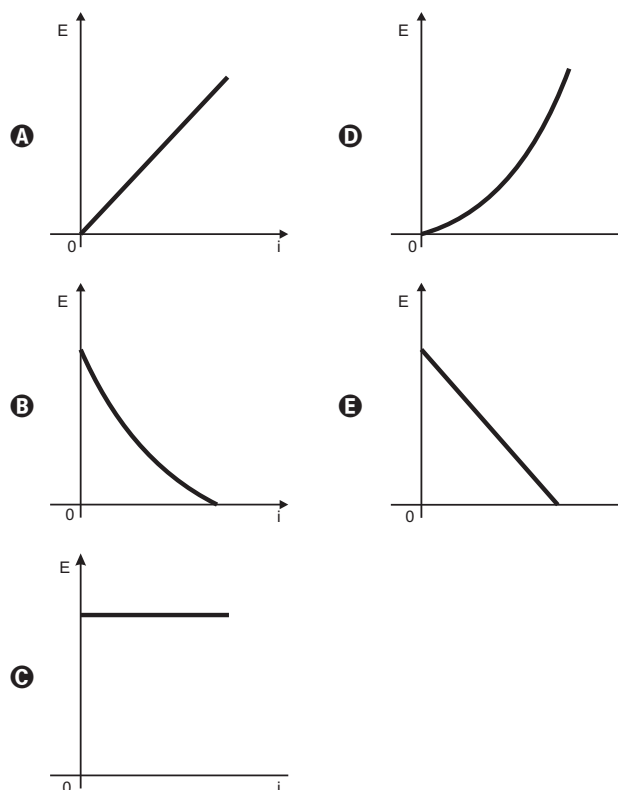
Para obter essas médias, ele multiplicou a matriz obtida a partir da tabela por

- A $\begin{bmatrix} 1 & 1 & 1 & 1 \\ 2 & 2 & 2 & 2 \end{bmatrix}$
- B $\begin{bmatrix} 1 & 1 & 1 & 1 \\ 4 & 4 & 4 & 4 \end{bmatrix}$
- C $\begin{bmatrix} 1 \\ 1 \\ 1 \\ 1 \end{bmatrix}$
- D $\begin{bmatrix} 1 \\ 2 \\ 1 \\ 2 \end{bmatrix}$
- E $\begin{bmatrix} 1 \\ 4 \\ 1 \\ 4 \end{bmatrix}$

QUESTÃO 170

Existem no mercado chuveiros elétricos de diferentes potências, que representam consumos e custos diversos. A potência (P) de um chuveiro elétrico é dada pelo produto entre sua resistência elétrica (R) e o quadrado da corrente elétrica (i) que por ele circula. O consumo de energia elétrica (E), por sua vez, é diretamente proporcional à potência do aparelho.

Considerando as características apresentadas, qual dos gráficos a seguir representa a relação entre a energia consumida (E) por um chuveiro elétrico e a corrente elétrica (i) que circula por ele?



QUESTÃO 171

Em 20 de fevereiro de 2011 ocorreu a grande erupção do vulcão Bulusan nas Filipinas. A sua localização geográfica no globo terrestre é dada pelo GPS (sigla em inglês para Sistema de Posicionamento Global) com longitude de $124^\circ 3' 0''$ a leste do Meridiano de Greenwich. Dado: 1° equivale a $60'$ e $1'$ equivale a $60''$.

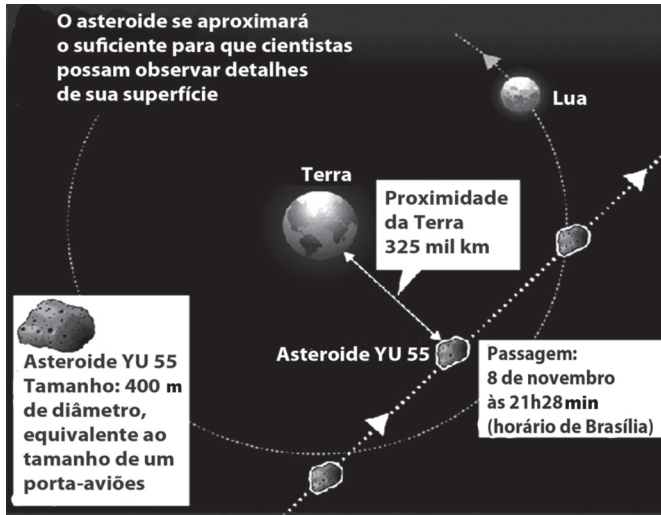
PAVARIN, G. Galileu, fev. 2012 (adaptado).

A representação angular da localização do vulcão com relação a sua longitude na forma decimal é

- A $124,02^\circ$.
- B $124,05^\circ$.
- C $124,20^\circ$.
- D $124,30^\circ$.
- E $124,50^\circ$.

QUESTÃO 172

A Agência Espacial Norte Americana (NASA) informou que o asteroide YU 55 cruzou o espaço entre a Terra e a Lua no mês de novembro de 2011. A ilustração a seguir sugere que o asteroide percorreu sua trajetória no mesmo plano que contém a órbita descrita pela Lua em torno da Terra. Na figura, está indicada a proximidade do asteroide em relação à Terra, ou seja, a menor distância que ele passou da superfície terrestre.



Fonte: NASA

Disponível em: <http://noticias.terra.com.br> (adaptado).

Com base nessas informações, a menor distância que o asteroide YU 55 passou da superfície da Terra é igual a

- A $3,25 \times 10^2$ km.
- B $3,25 \times 10^3$ km.
- C $3,25 \times 10^4$ km.
- D $3,25 \times 10^5$ km.
- E $3,25 \times 10^6$ km.

QUESTÃO 173

Há, em virtude da demanda crescente de economia de água, equipamentos e utensílios como, por exemplo, as bacias sanitárias ecológicas, que utilizam 6 litros de água por descarga em vez dos 15 litros utilizados por bacias sanitárias não ecológicas, conforme dados da Associação Brasileira de Normas Técnicas (ABNT).

Qual será a economia diária de água obtida por meio da substituição de uma bacia sanitária não ecológica, que gasta cerca de 60 litros por dia com a descarga, por uma bacia sanitária ecológica?

- A 24 litros
- B 36 litros
- C 40 litros
- D 42 litros
- E 50 litros

QUESTÃO 174

A tabela a seguir mostra a evolução da receita bruta anual nos três últimos anos de cinco microempresas (ME) que se encontram à venda.

ME	2009 (em milhares de reais)	2010 (em milhares de reais)	2011 (em milhares de reais)
Alfinetes V	200	220	240
Balas W	200	230	200
Chocolates X	250	210	215
Pizzaria Y	230	230	230
Tecelagem Z	160	210	245

Um investidor deseja comprar duas das empresas listadas na tabela. Para tal, ele calcula a média da receita bruta anual dos últimos três anos (de 2009 até 2011) e escolhe as duas empresas de maior média anual.

As empresas que este investidor escolhe comprar são

- A Balas W e Pizzaria Y.
- B Chocolates X e Tecelagem Z.
- C Pizzaria Y e Alfinetes V.
- D Pizzaria Y e Chocolates X.
- E Tecelagem Z e Alfinetes V.

QUESTÃO 175

Um laboratório realiza exames em que é possível observar a taxa de glicose de uma pessoa. Os resultados são analisados de acordo com o quadro a seguir.

Hipoglicemia	taxa de glicose menor ou igual a 70 mg/dL
Normal	taxa de glicose maior que 70 mg/dL e menor ou igual a 100 mg/dL
Pré-diabetes	taxa de glicose maior que 100 mg/dL e menor ou igual a 125 mg/dL
Diabetes Melito	taxa de glicose maior que 125 mg/dL e menor ou igual a 250 mg/dL
Hiperglicemia	taxa de glicose maior que 250 mg/dL

Um paciente fez um exame de glicose nesse laboratório e comprovou que estava com hiperglicemia. Sua taxa de glicose era de 300 mg/dL. Seu médico prescreveu um tratamento em duas etapas. Na primeira etapa ele conseguiu reduzir sua taxa em 30% e na segunda etapa em 10%.

Ao calcular sua taxa de glicose após as duas reduções, o paciente verificou que estava na categoria de

- A hipoglicemia.
- B normal.
- C pré-diabetes.
- D diabetes melito.
- E hiperglicemia.

QUESTÃO 176

Um produtor de café irrigado em Minas Gerais recebeu um relatório de consultoria estatística, constando, entre outras informações, o desvio padrão das produções de uma safra dos talhões de sua propriedade. Os talhões têm a mesma área de 30 000 m² e o valor obtido para o desvio padrão foi de 90 kg/talhão. O produtor deve apresentar as informações sobre a produção e a variância dessas produções em sacas de 60 kg por hectare (10 000 m²).

A variância das produções dos talhões expressa em (sacas/hectare)² é

- A 20,25.
- B 4,50.
- C 0,71.
- D 0,50.
- E 0,25.

QUESTÃO 177

O designer português Miguel Neiva criou um sistema de símbolos que permite que pessoas daltônicas identifiquem cores. O sistema consiste na utilização de símbolos que identificam as cores primárias (azul, amarelo e vermelho). Além disso, a justaposição de dois desses símbolos permite identificar cores secundárias (como o verde, que é o amarelo combinado com o azul). O preto e o branco são identificados por pequenos quadrados: o que simboliza o preto é cheio, enquanto o que simboliza o branco é vazio. Os símbolos que representam preto e branco também podem estar associados aos símbolos que identificam cores, significando se estas são claras ou escuras.

Folha de São Paulo. Disponível em: www1.folha.uol.com.br. Acesso em: 18 fev. 2012 (adaptado).

De acordo com o texto, quantas cores podem ser representadas pelo sistema proposto?

- A 14
- B 18
- C 20
- D 21
- E 23

QUESTÃO 178

José, Paulo e Antônio estão jogando dados não viciados, nos quais, em cada uma das seis faces, há um número de 1 a 6. Cada um deles jogará dois dados simultaneamente. José acredita que, após jogar seus dados, os números das faces voltadas para cima lhe darão uma soma igual a 7. Já Paulo acredita que sua soma será igual a 4 e Antônio acredita que sua soma será igual a 8.

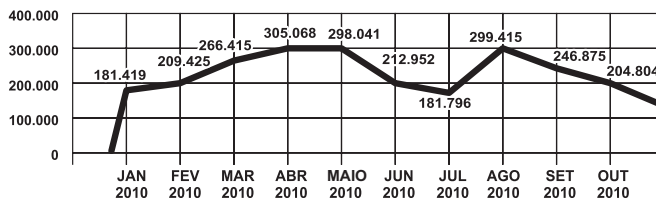
Com essa escolha, quem tem a maior probabilidade de acertar sua respectiva soma é

- A Antônio, já que sua soma é a maior de todas as escolhidas.
- B José e Antônio, já que há 6 possibilidades tanto para a escolha de José quanto para a escolha de Antônio, e há apenas 4 possibilidades para a escolha de Paulo.
- C José e Antônio, já que há 3 possibilidades tanto para a escolha de José quanto para a escolha de Antônio, e há apenas 2 possibilidades para a escolha de Paulo.
- D José, já que há 6 possibilidades para formar sua soma, 5 possibilidades para formar a soma de Antônio e apenas 3 possibilidades para formar a soma de Paulo.
- E Paulo, já que sua soma é a menor de todas.

QUESTÃO 179

O gráfico apresenta o comportamento de emprego formal surgido, segundo o CAGED, no período de janeiro de 2010 a outubro de 2010.

BRASIL - Comportamento do Emprego Formal no período de janeiro a outubro de 2010 - CAGED



Disponível em: www.mte.gov.br. Acesso em: 28 fev. 2012 (adaptado).

Com base no gráfico, o valor da parte inteira da mediana dos empregos formais surgidos no período é

- A 212 952.
- B 229 913.
- C 240 621.
- D 255 496.
- E 298 041.

QUESTÃO 180

A cerâmica possui a propriedade da contração, que consiste na evaporação da água existente em um conjunto ou bloco cerâmico submetido a uma determinada temperatura elevada: em seu lugar aparecendo “espaços vazios” que tendem a se aproximar. No lugar antes ocupado pela água vão ficando lacunas e, conseqüentemente, o conjunto tende a retrair-se. Considere que no processo de cozimento a cerâmica de argila sofra uma contração, em dimensões lineares, de 20%.

Disponível em: www.arq.ufsc.br. Acesso em: 30 mar. 2012 (adaptado).

Levando em consideração o processo de cozimento e a contração sofrida, o volume V de uma travessa de argila, de forma cúbica de aresta a, diminui para um valor que é

- A 20% menor que V, uma vez que o volume do cubo é diretamente proporcional ao comprimento de seu lado.
- B 36% menor que V, porque a área da base diminui de a² para ((1 - 0,2)a)².
- C 48,8% menor que V, porque o volume diminui de a³ para (0,8a)³.
- D 51,2% menor que V, porque cada lado diminui para 80% do comprimento original.
- E 60% menor que V, porque cada lado diminui 20%.



Transcreva a sua Redação para a Folha de Redação.

1
2
3
4
5
6
7
8
9
10
11
12
13
14
15
16
17
18
19
20
21
22
23
24
25
26
27
28
29
30

RASCUNHO
DA REDAÇÃO